

МИНИСТЕРСТВО ПРОСВЕЩЕНИЯ РОССИЙСКОЙ ФЕДЕРАЦИИ

Министерство образования и науки Удмуртской Республики

**Администрация МО "Муниципальный округ Завьяловский район
Удмуртской Республики"**

МБОУ "Юбилейная СОШ"

РАССМОТРЕНО

руководитель ШМО



Снигирева Н.А.
Протокол №1 от «29» 08
2024 г.

СОГЛАСОВАНО

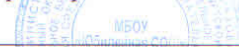
заместитель директора
по НМР



Зорина Е.Г.
Протокол № 13 от «30» 08
2024 г.

УТВЕРЖДЕНО

директор школы



Низамиева Е.А.
Приказ №189 от «30» 08
2024 г.

РАБОЧАЯ ПРОГРАММА

(ID 2103443)

**учебного предмета «Физика. Базовый уровень»
для обучающихся 10-11 классов**

Пирогово 2024

ПОЯСНИТЕЛЬНАЯ ЗАПИСКА

Программа по физике базового уровня на уровне среднего общего образования разработана на основе положений и требований к результатам освоения основной образовательной программы, представленных в ФГОС СОО, а также с учётом федеральной рабочей программы воспитания и концепции преподавания учебного предмета «Физика» в образовательных организациях Российской Федерации, реализующих основные образовательные программы.

Содержание программы по физике направлено на формирование естественно-научной картины мира обучающихся 10–11 классов при обучении их физике на базовом уровне на основе системно-деятельностного подхода. Программа по физике соответствует требованиям ФГОС СОО к планируемым личностным, предметным и метапредметным результатам обучения, а также учитывает необходимость реализации межпредметных связей физики с естественно-научными учебными предметами. В ней определяются основные цели изучения физики на уровне среднего общего образования, планируемые результаты освоения курса физики: личностные, метапредметные, предметные (на базовом уровне).

Программа по физике включает:

- планируемые результаты освоения курса физики на базовом уровне, в том числе предметные результаты по годам обучения;
- содержание учебного предмета «Физика» по годам обучения.

Физика как наука о наиболее общих законах природы, выступая в качестве учебного предмета в школе, вносит существенный вклад в систему знаний об окружающем мире. Школьный курс физики – системообразующий для естественно-научных учебных предметов, поскольку физические законы лежат в основе процессов и явлений, изучаемых химией, биологией, физической географией и астрономией. Использование и активное применение физических знаний определяет характер и развитие разнообразных технологий в сфере энергетики, транспорта, освоения космоса, получения новых материалов с заданными свойствами и других. Изучение физики вносит основной вклад в формирование естественно-научной картины мира обучающихся, в формирование умений применять научный метод познания при выполнении ими учебных исследований.

В основу курса физики для уровня среднего общего образования положен ряд идей, которые можно рассматривать как принципы его построения.

Идея целостности. В соответствии с ней курс является логически завершённым, он содержит материал из всех разделов физики, включает как вопросы классической, так и современной физики.

Идея генерализации. В соответствии с ней материал курса физики объединён вокруг физических теорий. Ведущим в курсе является формирование представлений о структурных уровнях материи, веществе и поле.

Идея гуманитаризации. Её реализация предполагает использование гуманитарного потенциала физической науки, осмысление связи развития физики с развитием общества, а также с мировоззренческими, нравственными и экологическими проблемами.

Идея прикладной направленности. Курс физики предполагает знакомство с широким кругом технических и технологических приложений изученных теорий и законов.

Идея экологизации реализуется посредством введения элементов содержания, посвящённых экологическим проблемам современности, которые связаны с развитием техники и технологий, а также обсуждения проблем рационального природопользования и экологической безопасности.

Стержневыми элементами курса физики на уровне среднего общего образования являются физические теории (формирование представлений о структуре построения физической теории, роли фундаментальных законов и принципов в современных представлениях о природе, границах применимости теорий, для описания естественно-научных явлений и процессов).

Системно-деятельностный подход в курсе физики реализуется прежде всего за счёт организации экспериментальной деятельности обучающихся. Для базового уровня курса физики – это использование системы фронтальных кратковременных экспериментов и лабораторных работ, которые в программе по физике объединены в общий список ученических практических работ. Выделение в указанном перечне лабораторных работ, проводимых для контроля и оценки, осуществляется участниками образовательного процесса исходя из особенностей планирования и оснащения кабинета физики. При этом обеспечивается овладение обучающимися умениями проводить косвенные измерения, исследования зависимостей физических величин и постановку опытов по проверке предложенных гипотез.

Большое внимание уделяется решению расчётных и качественных задач. При этом для расчётных задач приоритетом являются задачи с явно заданной физической моделью, позволяющие применять изученные законы и

закономерности как из одного раздела курса, так и интегрируя знания из разных разделов. Для качественных задач приоритетом являются задания на объяснение протекания физических явлений и процессов в окружающей жизни, требующие выбора физической модели для ситуации практико-ориентированного характера.

В соответствии с требованиями ФГОС СОО к материально-техническому обеспечению учебного процесса базовый уровень курса физики на уровне среднего общего образования должен изучаться в условиях предметного кабинета физики или в условиях интегрированного кабинета предметов естественно-научного цикла. В кабинете физики должно быть необходимое лабораторное оборудование для выполнения указанных в программе по физике ученических практических работ и демонстрационное оборудование.

Демонстрационное оборудование формируется в соответствии с принципом минимальной достаточности и обеспечивает постановку перечисленных в программе по физике ключевых демонстраций для исследования изучаемых явлений и процессов, эмпирических и фундаментальных законов, их технических применений.

Лабораторное оборудование для ученических практических работ формируется в виде тематических комплектов и обеспечивается в расчёте одного комплекта на двух обучающихся. Тематические комплекты лабораторного оборудования должны быть построены на комплексном использовании аналоговых и цифровых приборов, а также компьютерных измерительных систем в виде цифровых лабораторий.

Основными целями изучения физики в общем образовании являются:

- формирование интереса и стремления обучающихся к научному изучению природы, развитие их интеллектуальных и творческих способностей;
- развитие представлений о научном методе познания и формирование исследовательского отношения к окружающим явлениям;
- формирование научного мировоззрения как результата изучения основ строения материи и фундаментальных законов физики;
- формирование умений объяснять явления с использованием физических знаний и научных доказательств;
- формирование представлений о роли физики для развития других естественных наук, техники и технологий.

Достижение этих целей обеспечивается решением следующих задач в процессе изучения курса физики на уровне среднего общего образования:

- приобретение системы знаний об общих физических закономерностях, законах, теориях, включая механику, молекулярную физику, электродинамику, квантовую физику и элементы астрофизики;
- формирование умений применять теоретические знания для объяснения физических явлений в природе и для принятия практических решений в повседневной жизни;
- освоение способов решения различных задач с явно заданной физической моделью, задач, подразумевающих самостоятельное создание физической модели, адекватной условиям задачи;
- понимание физических основ и принципов действия технических устройств и технологических процессов, их влияния на окружающую среду;
- овладение методами самостоятельного планирования и проведения физических экспериментов, анализа и интерпретации информации, определения достоверности полученного результата;
- создание условий для развития умений проектно-исследовательской, творческой деятельности.

На изучение физики (базовый уровень) на уровне среднего общего образования отводится 136 часов: в 10 классе – 68 часов (2 часа в неделю), в 11 классе – 68 часов (2 часа в неделю).

Предлагаемый в программе по физике перечень лабораторных и практических работ является рекомендованным, учитель делает выбор проведения лабораторных работ и опытов с учётом индивидуальных особенностей обучающихся.

СОДЕРЖАНИЕ ОБУЧЕНИЯ

10 КЛАСС

Раздел 1. Физика и методы научного познания

Физика – наука о природе. Научные методы познания окружающего мира. Роль эксперимента и теории в процессе познания природы. Эксперимент в физике.

Моделирование физических явлений и процессов. Научные гипотезы. Физические законы и теории. Границы применимости физических законов. Принцип соответствия.

Роль и место физики в формировании современной научной картины мира, в практической деятельности людей.

Демонстрации

Аналоговые и цифровые измерительные приборы, компьютерные датчики.

Раздел 2. Механика

Тема 1. Кинематика

Механическое движение. Относительность механического движения. Система отсчёта. Траектория.

Перемещение, скорость (средняя скорость, мгновенная скорость) и ускорение материальной точки, их проекции на оси системы координат. Сложение перемещений и сложение скоростей.

Равномерное и равноускоренное прямолинейное движение. Графики зависимости координат, скорости, ускорения, пути и перемещения материальной точки от времени.

Свободное падение. Ускорение свободного падения.

Криволинейное движение. Движение материальной точки по окружности с постоянной по модулю скоростью. Угловая скорость, линейная скорость. Период и частота обращения. Центробежное ускорение.

Технические устройства и практическое применение: спидометр, движение снарядов, цепные и ремённые передачи.

Демонстрации

Модель системы отсчёта, иллюстрация кинематических характеристик движения.

Преобразование движений с использованием простых механизмов.

Падение тел в воздухе и в разреженном пространстве.

Наблюдение движения тела, брошенного под углом к горизонту и горизонтально.

Измерение ускорения свободного падения.

Направление скорости при движении по окружности.

Ученический эксперимент, лабораторные работы

Изучение неравномерного движения с целью определения мгновенной скорости.

Исследование соотношения между путями, пройденными телом за последовательные равные промежутки времени при равноускоренном движении с начальной скоростью, равной нулю.

Изучение движения шарика в вязкой жидкости.

Изучение движения тела, брошенного горизонтально.

Тема 2. Динамика

Принцип относительности Галилея. Первый закон Ньютона. Инерциальные системы отсчёта.

Масса тела. Сила. Принцип суперпозиции сил. Второй закон Ньютона для материальной точки. Третий закон Ньютона для материальных точек.

Закон всемирного тяготения. Сила тяжести. Первая космическая скорость.

Сила упругости. Закон Гука. Вес тела.

Трение. Виды трения (покоя, скольжения, качения). Сила трения. Сухое трение. Сила трения скольжения и сила трения покоя. Коэффициент трения. Сила сопротивления при движении тела в жидкости или газе.

Поступательное и вращательное движение абсолютно твёрдого тела.

Момент силы относительно оси вращения. Плечо силы. Условия равновесия твёрдого тела.

Технические устройства и практическое применение: подшипники, движение искусственных спутников.

Демонстрации

Явление инерции.

Сравнение масс взаимодействующих тел.

Второй закон Ньютона.

Измерение сил.

Сложение сил.

Зависимость силы упругости от деформации.

Невесомость. Вес тела при ускоренном подъёме и падении.

Сравнение сил трения покоя, качения и скольжения.

Условия равновесия твёрдого тела. Виды равновесия.

Ученический эксперимент, лабораторные работы

Изучение движения бруска по наклонной плоскости.

Исследование зависимости сил упругости, возникающих в пружине и резиновом образце, от их деформации.

Исследование условий равновесия твёрдого тела, имеющего ось вращения.

Тема 3. Законы сохранения в механике

Импульс материальной точки (тела), системы материальных точек. Импульс силы и изменение импульса тела. Закон сохранения импульса. Реактивное движение.

Работа силы. Мощность силы.

Кинетическая энергия материальной точки. Теорема об изменении кинетической энергии.

Потенциальная энергия. Потенциальная энергия упруго деформированной пружины. Потенциальная энергия тела вблизи поверхности Земли.

Потенциальные и непотенциальные силы. Связь работы непотенциальных сил с изменением механической энергии системы тел. Закон сохранения механической энергии.

Упругие и неупругие столкновения.

Технические устройства и практическое применение: водомёт, копёр, пружинный пистолет, движение ракет.

Демонстрации

Закон сохранения импульса.

Реактивное движение.

Переход потенциальной энергии в кинетическую и обратно.

Ученический эксперимент, лабораторные работы

Изучение абсолютно неупругого удара с помощью двух одинаковых нитяных маятников.

Исследование связи работы силы с изменением механической энергии тела на примере растяжения резинового жгута.

Раздел 3. Молекулярная физика и термодинамика

Тема 1. Основы молекулярно-кинетической теории

Основные положения молекулярно-кинетической теории и их опытное обоснование. Броуновское движение. Диффузия. Характер движения и взаимодействия частиц вещества. Модели строения газов, жидкостей и твёрдых тел и объяснение свойств вещества на основе этих моделей. Масса и размеры молекул. Количество вещества. Постоянная Авогадро.

Тепловое равновесие. Температура и её измерение. Шкала температур Цельсия.

Модель идеального газа. Основное уравнение молекулярно-кинетической теории идеального газа. Абсолютная температура как мера средней кинетической энергии теплового движения частиц газа. Шкала температур Кельвина. Газовые законы. Уравнение Менделеева–Клапейрона. Закон Дальтона. Изопроцессы в идеальном газе с постоянным количеством вещества. Графическое представление изопроцессов: изотерма, изохора, изобара.

Технические устройства и практическое применение: термометр, барометр.

Демонстрации

Опыты, доказывающие дискретное строение вещества, фотографии молекул органических соединений.

Опыты по диффузии жидкостей и газов.

Модель броуновского движения.

Модель опыта Штерна.

Опыты, доказывающие существование межмолекулярного взаимодействия.

Модель, иллюстрирующая природу давления газа на стенки сосуда.

Опыты, иллюстрирующие уравнение состояния идеального газа, изопроцессы.

Ученический эксперимент, лабораторные работы

Определение массы воздуха в классной комнате на основе измерений объёма комнаты, давления и температуры воздуха в ней.

Исследование зависимости между параметрами состояния разреженного газа.

Тема 2. Основы термодинамики

Термодинамическая система. Внутренняя энергия термодинамической системы и способы её изменения. Количество теплоты и работа. Внутренняя энергия одноатомного идеального газа. Виды теплопередачи: теплопроводность, конвекция, излучение. Удельная теплоёмкость вещества. Количество теплоты при теплопередаче.

Понятие об адиабатном процессе. Первый закон термодинамики. Применение первого закона термодинамики к изопроцессам. Графическая интерпретация работы газа.

Второй закон термодинамики. Необратимость процессов в природе.

Тепловые машины. Принципы действия тепловых машин. Преобразования энергии в тепловых машинах. Коэффициент полезного действия тепловой машины. Цикл Карно и его коэффициент полезного действия. Экологические проблемы теплоэнергетики.

Технические устройства и практическое применение: двигатель внутреннего сгорания, бытовой холодильник, кондиционер.

Демонстрации

Изменение внутренней энергии тела при совершении работы: вылет пробки из бутылки под действием сжатого воздуха, нагревание эфира в латунной трубке путём трения (видеодемонстрация).

Изменение внутренней энергии (температуры) тела при теплопередаче.

Опыт по адиабатному расширению воздуха (опыт с воздушным огнём).

Модели паровой турбины, двигателя внутреннего сгорания, реактивного двигателя.

Ученический эксперимент, лабораторные работы

Измерение удельной теплоёмкости.

Тема 3. Агрегатные состояния вещества. Фазовые переходы

Парообразование и конденсация. Испарение и кипение. Абсолютная и относительная влажность воздуха. Насыщенный пар. Удельная теплота парообразования. Зависимость температуры кипения от давления.

Твёрдое тело. Кристаллические и аморфные тела. Анизотропия свойств кристаллов. Жидкие кристаллы. Современные материалы. Плавление и кристаллизация. Удельная теплота плавления. Сублимация.

Уравнение теплового баланса.

Технические устройства и практическое применение: гигрометр и психрометр, калориметр, технологии получения современных материалов, в том числе наноматериалов, и нанотехнологии.

Демонстрации

Свойства насыщенных паров.

Кипение при пониженном давлении.

Способы измерения влажности.

Наблюдение нагревания и плавления кристаллического вещества.

Демонстрация кристаллов.

Ученический эксперимент, лабораторные работы

Измерение относительной влажности воздуха.

Раздел 4. Электродинамика

Тема 1. Электростатика

Электризация тел. Электрический заряд. Два вида электрических зарядов. Проводники, диэлектрики и полупроводники. Закон сохранения электрического заряда.

Взаимодействие зарядов. Закон Кулона. Точечный электрический заряд. Электрическое поле. Напряжённость электрического поля. Принцип

суперпозиции электрических полей. Линии напряжённости электрического поля.

Работа сил электростатического поля. Потенциал. Разность потенциалов. Проводники и диэлектрики в электростатическом поле. Диэлектрическая проницаемость.

Емкость. Конденсатор. Емкость плоского конденсатора. Энергия заряженного конденсатора.

Технические устройства и практическое применение: электроскоп, электрометр, электростатическая защита, заземление электроприборов, конденсатор, копировальный аппарат, струйный принтер.

Демонстрации

Устройство и принцип действия электрометра.

Взаимодействие наэлектризованных тел.

Электрическое поле заряженных тел.

Проводники в электростатическом поле.

Электростатическая защита.

Диэлектрики в электростатическом поле.

Зависимость емкости плоского конденсатора от площади пластин, расстояния между ними и диэлектрической проницаемости.

Энергия заряженного конденсатора.

Учебный эксперимент, лабораторные работы

Измерение емкости конденсатора.

Тема 2. Постоянный электрический ток. Токи в различных средах

Электрический ток. Условия существования электрического тока. Источники тока. Сила тока. Постоянный ток.

Напряжение. Закон Ома для участка цепи.

Электрическое сопротивление. Удельное сопротивление вещества. Последовательное, параллельное, смешанное соединение проводников.

Работа электрического тока. Закон Джоуля–Ленца. Мощность электрического тока.

Электродвижущая сила и внутреннее сопротивление источника тока. Закон Ома для полной (замкнутой) электрической цепи. Короткое замыкание.

Электронная проводимость твердых металлов. Зависимость сопротивления металлов от температуры. Сверхпроводимость.

Электрический ток в вакууме. Свойства электронных пучков.

Полупроводники. Собственная и примесная проводимость полупроводников. Свойства p–n-перехода. Полупроводниковые приборы.

Электрический ток в растворах и расплавах электролитов. Электролитическая диссоциация. Электролиз.

Электрический ток в газах. Самостоятельный и несамостоятельный разряд. Молния. Плазма.

Технические устройства и практическое применение: амперметр, вольтметр, реостат, источники тока, электронагревательные приборы, электроосветительные приборы, термометр сопротивления, вакуумный диод, термисторы и фоторезисторы, полупроводниковый диод, гальваника.

Демонстрации

Измерение силы тока и напряжения.

Зависимость сопротивления цилиндрических проводников от длины, площади поперечного сечения и материала.

Смешанное соединение проводников.

Прямое измерение электродвижущей силы. Короткое замыкание гальванического элемента и оценка внутреннего сопротивления.

Зависимость сопротивления металлов от температуры.

Проводимость электролитов.

Искровой разряд и проводимость воздуха.

Односторонняя проводимость диода.

Ученический эксперимент, лабораторные работы

Изучение смешанного соединения резисторов.

Измерение электродвижущей силы источника тока и его внутреннего сопротивления.

Наблюдение электролиза.

Межпредметные связи

Изучение курса физики базового уровня в 10 классе осуществляется с учётом содержательных межпредметных связей с курсами математики, биологии, химии, географии и технологии.

Межпредметные понятия, связанные с изучением методов научного познания: явление, научный факт, гипотеза, физическая величина, закон, теория, наблюдение, эксперимент, моделирование, модель, измерение.

Математика: решение системы уравнений, линейная функция, парабола, гипербола, их графики и свойства, тригонометрические функции: синус, косинус, тангенс, котангенс, основное тригонометрическое тождество, векторы и их проекции на оси координат, сложение векторов.

Биология: механическое движение в живой природе, диффузия, осмос, теплообмен живых организмов (виды теплопередачи, тепловое равновесие), электрические явления в живой природе.

Химия: дискретное строение вещества, строение атомов и молекул, молярная масса, тепловые свойства твёрдых тел, жидкостей и

газов, электрические свойства металлов, электролитическая диссоциация, гальваника.

География: влажность воздуха, ветры, барометр, термометр.

Технология: преобразование движений с использованием механизмов, учёт трения в технике, подшипники, использование закона сохранения импульса в технике (ракета, водомёт и другие), двигатель внутреннего сгорания, паровая турбина, бытовой холодильник, кондиционер, технологии получения современных материалов, в том числе наноматериалов, и нанотехнологии, электростатическая защита, заземление электроприборов, ксерокс, струйный принтер, электронагревательные приборы, электроосветительные приборы, гальваника.

11 КЛАСС

Раздел 4. Электродинамика

Тема 3. Магнитное поле. Электромагнитная индукция

Постоянные магниты. Взаимодействие постоянных магнитов. Магнитное поле. Вектор магнитной индукции. Принцип суперпозиции магнитных полей. Линии магнитной индукции. Картина линий магнитной индукции поля постоянных магнитов.

Магнитное поле проводника с током. Картина линий индукции магнитного поля длинного прямого проводника и замкнутого кольцевого проводника, катушки с током. Опыт Эрстеда. Взаимодействие проводников с током.

Сила Ампера, её модуль и направление.

Сила Лоренца, её модуль и направление. Движение заряженной частицы в однородном магнитном поле. Работа силы Лоренца.

Явление электромагнитной индукции. Поток вектора магнитной индукции. Электродвижущая сила индукции. Закон электромагнитной индукции Фарадея.

Вихревое электрическое поле. Электродвижущая сила индукции в проводнике, движущемся поступательно в однородном магнитном поле.

Правило Ленца.

Индуктивность. Явление самоиндукции. Электродвижущая сила самоиндукции.

Энергия магнитного поля катушки с током.

Электромагнитное поле.

Технические устройства и практическое применение: постоянные магниты, электромагниты, электродвигатель, ускорители элементарных частиц, индукционная печь.

Демонстрации

Опыт Эрстеда.

Отклонение электронного пучка магнитным полем.

Линии индукции магнитного поля.

Взаимодействие двух проводников с током.

Сила Ампера.

Действие силы Лоренца на ионы электролита.

Явление электромагнитной индукции.

Правило Ленца.

Зависимость электродвижущей силы индукции от скорости изменения магнитного потока.

Явление самоиндукции.

Ученический эксперимент, лабораторные работы

Изучение магнитного поля катушки с током.

Исследование действия постоянного магнита на рамку с током.

Исследование явления электромагнитной индукции.

Раздел 5. Колебания и волны

Тема 1. Механические и электромагнитные колебания

Колебательная система. Свободные механические колебания. Гармонические колебания. Период, частота, амплитуда и фаза колебаний. Пружинный маятник. Математический маятник. Уравнение гармонических колебаний. Превращение энергии при гармонических колебаниях.

Колебательный контур. Свободные электромагнитные колебания в идеальном колебательном контуре. Аналогия между механическими и электромагнитными колебаниями. Формула Томсона. Закон сохранения энергии в идеальном колебательном контуре.

Представление о затухающих колебаниях. Вынужденные механические колебания. Резонанс. Вынужденные электромагнитные колебания.

Переменный ток. Синусоидальный переменный ток. Мощность переменного тока. Амплитудное и действующее значение силы тока и напряжения.

Трансформатор. Производство, передача и потребление электрической энергии. Экологические риски при производстве электроэнергии. Культура использования электроэнергии в повседневной жизни.

Технические устройства и практическое применение: электрический звонок, генератор переменного тока, линии электропередач.

Демонстрации

Исследование параметров колебательной системы (пружинный или математический маятник).

Наблюдение затухающих колебаний.

Исследование свойств вынужденных колебаний.

Наблюдение резонанса.

Свободные электромагнитные колебания.

Осциллограммы (зависимости силы тока и напряжения от времени) для электромагнитных колебаний.

Резонанс при последовательном соединении резистора, катушки индуктивности и конденсатора.

Модель линии электропередачи.

Ученический эксперимент, лабораторные работы

Исследование зависимости периода малых колебаний груза на нити от длины нити и массы груза.

Исследование переменного тока в цепи из последовательно соединённых конденсатора, катушки и резистора.

Тема 2. Механические и электромагнитные волны

Механические волны, условия распространения. Период. Скорость распространения и длина волны. Поперечные и продольные волны. Интерференция и дифракция механических волн.

Звук. Скорость звука. Громкость звука. Высота тона. Тембр звука.

Электромагнитные волны. Условия излучения электромагнитных волн. Взаимная ориентация векторов E , B , V в электромагнитной волне. Свойства электромагнитных волн: отражение, преломление, поляризация, дифракция, интерференция. Скорость электромагнитных волн.

Шкала электромагнитных волн. Применение электромагнитных волн в технике и быту.

Принципы радиосвязи и телевидения. Радиолокация.

Электромагнитное загрязнение окружающей среды.

Технические устройства и практическое применение: музыкальные инструменты, ультразвуковая диагностика в технике и медицине, радар, радиоприёмник, телевизор, антенна, телефон, СВЧ-печь.

Демонстрации

Образование и распространение поперечных и продольных волн.

Колеблющееся тело как источник звука.

Наблюдение отражения и преломления механических волн.

Наблюдение интерференции и дифракции механических волн.

Звуковой резонанс.

Наблюдение связи громкости звука и высоты тона с амплитудой и частотой колебаний.

Исследование свойств электромагнитных волн: отражение, преломление, поляризация, дифракция, интерференция.

Тема 3. Оптика

Геометрическая оптика. Прямолинейное распространение света в однородной среде. Луч света. Точечный источник света.

Отражение света. Законы отражения света. Построение изображений в плоском зеркале.

Преломление света. Законы преломления света. Абсолютный показатель преломления. Полное внутреннее отражение. Предельный угол полного внутреннего отражения.

Дисперсия света. Сложный состав белого света. Цвет.

Собирающие и рассеивающие линзы. Тонкая линза. Фокусное расстояние и оптическая сила тонкой линзы. Построение изображений в собирающих и рассеивающих линзах. Формула тонкой линзы. Увеличение, даваемое линзой.

Пределы применимости геометрической оптики.

Волновая оптика. Интерференция света. Когерентные источники. Условия наблюдения максимумов и минимумов в интерференционной картине от двух синфазных когерентных источников.

Дифракция света. Дифракционная решётка. Условие наблюдения главных максимумов при падении монохроматического света на дифракционную решётку.

Поляризация света.

Технические устройства и практическое применение: очки, лупа, фотоаппарат, проекционный аппарат, микроскоп, телескоп, волоконная оптика, дифракционная решётка, поляроид.

Демонстрации

Прямолинейное распространение, отражение и преломление света. Оптические приборы.

Полное внутреннее отражение. Модель световода.

Исследование свойств изображений в линзах.

Модели микроскопа, телескопа.

Наблюдение интерференции света.

Наблюдение дифракции света.

Наблюдение дисперсии света.

Получение спектра с помощью призмы.

Получение спектра с помощью дифракционной решётки.

Наблюдение поляризации света.

Ученический эксперимент, лабораторные работы

Измерение показателя преломления стекла.
Исследование свойств изображений в линзах.
Наблюдение дисперсии света.

Раздел 6. Основы специальной теории относительности

Границы применимости классической механики. Постулаты специальной теории относительности: инвариантность модуля скорости света в вакууме, принцип относительности Эйнштейна.

Относительность одновременности. Замедление времени и сокращение длины.

Энергия и импульс релятивистской частицы.

Связь массы с энергией и импульсом релятивистской частицы. Энергия покоя.

Раздел 7. Квантовая физика

Тема 1. Элементы квантовой оптики

Фотоны. Формула Планка связи энергии фотона с его частотой. Энергия и импульс фотона.

Открытие и исследование фотоэффекта. Опыты А. Г. Столетова. Законы фотоэффекта. Уравнение Эйнштейна для фотоэффекта. «Красная граница» фотоэффекта.

Давление света. Опыты П. Н. Лебедева.

Химическое действие света.

Технические устройства и практическое применение: фотоэлемент, фотодатчик, солнечная батарея, светодиод.

Демонстрации

Фотоэффект на установке с цинковой пластиной.

Исследование законов внешнего фотоэффекта.

Светодиод.

Солнечная батарея.

Тема 2. Строение атома

Модель атома Томсона. Опыты Резерфорда по рассеянию α -частиц. Планетарная модель атома. Постулаты Бора. Излучение и поглощение фотонов при переходе атома с одного уровня энергии на другой. Виды спектров. Спектр уровней энергии атома водорода.

Волновые свойства частиц. Волны де Бройля. Корпускулярно-волновой дуализм.

Спонтанное и вынужденное излучение.

Технические устройства и практическое применение: спектральный анализ (спектроскоп), лазер, квантовый компьютер.

Демонстрации

Модель опыта Резерфорда.

Определение длины волны лазера.

Наблюдение линейчатых спектров излучения.

Лазер.

Ученический эксперимент, лабораторные работы

Наблюдение линейчатого спектра.

Тема 3. Атомное ядро

Эксперименты, доказывающие сложность строения ядра. Открытие радиоактивности. Опыты Резерфорда по определению состава радиоактивного излучения. Свойства альфа-, бета-, гамма-излучения. Влияние радиоактивности на живые организмы.

Открытие протона и нейтрона. Нуклонная модель ядра Гейзенберга–Иваненко. Заряд ядра. Массовое число ядра. Изотопы.

Альфа-распад. Электронный и позитронный бета-распад. Гамма-излучение. Закон радиоактивного распада.

Энергия связи нуклонов в ядре. Ядерные силы. Дефект массы ядра.

Ядерные реакции. Деление и синтез ядер.

Ядерный реактор. Термоядерный синтез. Проблемы и перспективы ядерной энергетики. Экологические аспекты ядерной энергетики.

Элементарные частицы. Открытие позитрона.

Методы наблюдения и регистрации элементарных частиц.

Фундаментальные взаимодействия. Единство физической картины мира.

Технические устройства и практическое применение: дозиметр, камера Вильсона, ядерный реактор, атомная бомба.

Демонстрации

Счётчик ионизирующих частиц.

Ученический эксперимент, лабораторные работы

Исследование треков частиц (по готовым фотографиям).

Раздел 8. Элементы астрономии и астрофизики

Этапы развития астрономии. Прикладное и мировоззренческое значение астрономии.

Вид звёздного неба. Созвездия, яркие звёзды, планеты, их видимое движение.

Солнечная система.

Солнце. Солнечная активность. Источник энергии Солнца и звёзд. Звёзды, их основные характеристики. Диаграмма «спектральный класс – светимость». Звёзды главной последовательности. Зависимость «масса – светимость» для звёзд главной последовательности. Внутреннее строение

звёзд. Современные представления о происхождении и эволюции Солнца и звёзд. Этапы жизни звёзд.

Млечный Путь – наша Галактика. Положение и движение Солнца в Галактике. Типы галактик. Радиогалактики и квазары. Чёрные дыры в ядрах галактик.

Вселенная. Расширение Вселенной. Закон Хаббла. Разбегание галактик. Теория Большого взрыва. Реликтовое излучение.

Масштабная структура Вселенной. Метагалактика.

Нерешённые проблемы астрономии.

Ученические наблюдения

Наблюдения невооружённым глазом с использованием компьютерных приложений для определения положения небесных объектов на конкретную дату: основные созвездия Северного полушария и яркие звёзды.

Наблюдения в телескоп Луны, планет, Млечного Пути.

Обобщающее повторение

Роль физики и астрономии в экономической, технологической, социальной и этической сферах деятельности человека, роль и место физики и астрономии в современной научной картине мира, роль физической теории в формировании представлений о физической картине мира, место физической картины мира в общем ряду современных естественно-научных представлений о природе.

Межпредметные связи

Изучение курса физики базового уровня в 11 классе осуществляется с учётом содержательных межпредметных связей с курсами математики, биологии, химии, географии и технологии.

Межпредметные понятия, связанные с изучением методов научного познания: явление, научный факт, гипотеза, физическая величина, закон, теория, наблюдение, эксперимент, моделирование, модель, измерение.

Математика: решение системы уравнений, тригонометрические функции: синус, косинус, тангенс, котангенс, основное тригонометрическое тождество, векторы и их проекции на оси координат, сложение векторов, производные элементарных функций, признаки подобия треугольников, определение площади плоских фигур и объёма тел.

Биология: электрические явления в живой природе, колебательные движения в живой природе, оптические явления в живой природе, действие радиации на живые организмы.

Химия: строение атомов и молекул, кристаллическая структура твёрдых тел, механизмы образования кристаллической решётки, спектральный анализ.

География: магнитные полюса Земли, залежи магнитных руд, фотосъёмка земной поверхности, предсказание землетрясений.

Технология: линии электропередач, генератор переменного тока, электродвигатель, индукционная печь, радар, радиоприёмник, телевизор, антенна, телефон, СВЧ-печь, проекционный аппарат, волоконная оптика, солнечная батарея.

ПЛАНИРУЕМЫЕ РЕЗУЛЬТАТЫ ОСВОЕНИЯ ПРОГРАММЫ ПО ФИЗИКЕ НА УРОВНЕ СРЕДНЕГО ОБЩЕГО ОБРАЗОВАНИЯ

Освоение учебного предмета «Физика» на уровне среднего общего образования (базовый уровень) должно обеспечить достижение следующих личностных, метапредметных и предметных образовательных результатов.

ЛИЧНОСТНЫЕ РЕЗУЛЬТАТЫ

Личностные результаты освоения учебного предмета «Физика» должны отражать готовность и способность обучающихся руководствоваться сформированной внутренней позицией личности, системой ценностных ориентаций, позитивных внутренних убеждений, соответствующих традиционным ценностям российского общества, расширение жизненного опыта и опыта деятельности в процессе реализации основных направлений воспитательной деятельности, в том числе в части:

1) гражданского воспитания:

сформированность гражданской позиции обучающегося как активного и ответственного члена российского общества;

принятие традиционных общечеловеческих гуманистических и демократических ценностей;

готовность вести совместную деятельность в интересах гражданского общества, участвовать в самоуправлении в образовательной организации;

умение взаимодействовать с социальными институтами в соответствии с их функциями и назначением;

готовность к гуманитарной и волонтерской деятельности;

2) патриотического воспитания:

сформированность российской гражданской идентичности, патриотизма;

ценностное отношение к государственным символам, достижениям российских учёных в области физики и техники;

3) духовно-нравственного воспитания:

сформированность нравственного сознания, этического поведения;

способность оценивать ситуацию и принимать осознанные решения, ориентируясь на морально-нравственные нормы и ценности, в том числе в деятельности учёного;

осознание личного вклада в построение устойчивого будущего;

4) эстетического воспитания:

эстетическое отношение к миру, включая эстетику научного творчества, присущего физической науке;

5)трудового воспитания:

интерес к различным сферам профессиональной деятельности, в том числе связанным с физикой и техникой, умение совершать осознанный выбор будущей профессии и реализовывать собственные жизненные планы;

готовность и способность к образованию и самообразованию в области физики на протяжении всей жизни;

6)экологического воспитания:

сформированность экологической культуры, осознание глобального характера экологических проблем;

планирование и осуществление действий в окружающей среде на основе знания целей устойчивого развития человечества;

расширение опыта деятельности экологической направленности на основе имеющихся знаний по физике;

7)ценности научного познания:

сформированность мировоззрения, соответствующего современному уровню развития физической науки;

осознание ценности научной деятельности, готовность в процессе изучения физики осуществлять проектную и исследовательскую деятельность индивидуально и в группе.

МЕТАПРЕДМЕТНЫЕ РЕЗУЛЬТАТЫ

Познавательные универсальные учебные действия

Базовые логические действия:

самостоятельно формулировать и актуализировать проблему, рассматривать её всесторонне;

определять цели деятельности, задавать параметры и критерии их достижения;

выявлять закономерности и противоречия в рассматриваемых физических явлениях;

разрабатывать план решения проблемы с учётом анализа имеющихся материальных и нематериальных ресурсов;

вносить коррективы в деятельность, оценивать соответствие результатов целям, оценивать риски последствий деятельности;

координировать и выполнять работу в условиях реального, виртуального и комбинированного взаимодействия;

развивать креативное мышление при решении жизненных проблем.

Базовые исследовательские действия:

владеть научной терминологией, ключевыми понятиями и методами физической науки;

владеть навыками учебно-исследовательской и проектной деятельности в области физики, способностью и готовностью к самостоятельному поиску методов решения задач физического содержания, применению различных методов познания;

владеть видами деятельности по получению нового знания, его интерпретации, преобразованию и применению в различных учебных ситуациях, в том числе при создании учебных проектов в области физики;

выявлять причинно-следственные связи и актуализировать задачу, выдвигать гипотезу её решения, находить аргументы для доказательства своих утверждений, задавать параметры и критерии решения;

анализировать полученные в ходе решения задачи результаты, критически оценивать их достоверность, прогнозировать изменение в новых условиях;

ставить и формулировать собственные задачи в образовательной деятельности, в том числе при изучении физики;

давать оценку новым ситуациям, оценивать приобретённый опыт;

уметь переносить знания по физике в практическую область жизнедеятельности;

уметь интегрировать знания из разных предметных областей;

выдвигать новые идеи, предлагать оригинальные подходы и решения;

ставить проблемы и задачи, допускающие альтернативные решения.

Работа с информацией:

владеть навыками получения информации физического содержания из источников разных типов, самостоятельно осуществлять поиск, анализ, систематизацию и интерпретацию информации различных видов и форм представления;

оценивать достоверность информации;

использовать средства информационных и коммуникационных технологий в решении когнитивных, коммуникативных и организационных задач с соблюдением требований эргономики, техники безопасности, гигиены, ресурсосбережения, правовых и этических норм, норм информационной безопасности;

создавать тексты физического содержания в различных форматах с учётом назначения информации и целевой аудитории, выбирая оптимальную форму представления и визуализации.

Коммуникативные универсальные учебные действия:

осуществлять общение на уроках физики и во внеурочной деятельности;

распознавать предпосылки конфликтных ситуаций и смягчать конфликты;

развёрнуто и логично излагать свою точку зрения с использованием языковых средств;

понимать и использовать преимущества командной и индивидуальной работы;

выбирать тематику и методы совместных действий с учётом общих интересов и возможностей каждого члена коллектива;

принимать цели совместной деятельности, организовывать и координировать действия по её достижению: составлять план действий, распределять роли с учётом мнений участников, обсуждать результаты совместной работы;

оценивать качество своего вклада и каждого участника команды в общий результат по разработанным критериям;

предлагать новые проекты, оценивать идеи с позиции новизны, оригинальности, практической значимости;

осуществлять позитивное стратегическое поведение в различных ситуациях, проявлять творчество и воображение, быть инициативным.

Регулятивные универсальные учебные действия

Самоорганизация:

самостоятельно осуществлять познавательную деятельность в области физики и астрономии, выявлять проблемы, ставить и формулировать собственные задачи;

самостоятельно составлять план решения расчётных и качественных задач, план выполнения практической работы с учётом имеющихся ресурсов, собственных возможностей и предпочтений;

давать оценку новым ситуациям;

расширять рамки учебного предмета на основе личных предпочтений;

делать осознанный выбор, аргументировать его, брать на себя ответственность за решение;

оценивать приобретённый опыт;

способствовать формированию и проявлению эрудиции в области физики, постоянно повышать свой образовательный и культурный уровень.

Самоконтроль, эмоциональный интеллект:

давать оценку новым ситуациям, вносить коррективы в деятельность, оценивать соответствие результатов целям;

владеть навыками познавательной рефлексии как осознания совершаемых действий и мыслительных процессов, их результатов и оснований;

использовать приёмы рефлексии для оценки ситуации, выбора верного решения;

уметь оценивать риски и своевременно принимать решения по их снижению;

принимать мотивы и аргументы других при анализе результатов деятельности;

принимать себя, понимая свои недостатки и достоинства;

принимать мотивы и аргументы других при анализе результатов деятельности;

признавать своё право и право других на ошибки.

В процессе достижения личностных результатов освоения программы по физике для уровня среднего общего образования у обучающихся совершенствуется эмоциональный интеллект, предполагающий сформированность:

самосознания, включающего способность понимать своё эмоциональное состояние, видеть направления развития собственной эмоциональной сферы, быть уверенным в себе;

саморегулирования, включающего самоконтроль, умение принимать ответственность за своё поведение, способность адаптироваться к эмоциональным изменениям и проявлять гибкость, быть открытым новому;

внутренней мотивации, включающей стремление к достижению цели и успеху, оптимизм, инициативность, умение действовать исходя из своих возможностей;

эмпатии, включающей способность понимать эмоциональное состояние других, учитывать его при осуществлении общения, способность к сочувствию и сопереживанию;

социальных навыков, включающих способность выстраивать отношения с другими людьми, заботиться, проявлять интерес и разрешать конфликты.

ПРЕДМЕТНЫЕ РЕЗУЛЬТАТЫ

К концу обучения в **10 классе** предметные результаты на базовом уровне должны отражать сформированность у обучающихся умений:

демонстрировать на примерах роль и место физики в формировании современной научной картины мира, в развитии современной техники и технологий, в практической деятельности людей;

учитывать границы применения изученных физических моделей: материальная точка, инерциальная система отсчёта, абсолютно твёрдое тело, идеальный газ, модели строения газов, жидкостей и твёрдых тел, точечный электрический заряд при решении физических задач;

распознавать физические явления (процессы) и объяснять их на основе законов механики, молекулярно-кинетической теории строения вещества и

электродинамики: равномерное и равноускоренное прямолинейное движение, свободное падение тел, движение по окружности, инерция, взаимодействие тел, диффузия, броуновское движение, строение жидкостей и твёрдых тел, изменение объёма тел при нагревании (охлаждении), тепловое равновесие, испарение, конденсация, плавление, кристаллизация, кипение, влажность воздуха, повышение давления газа при его нагревании в закрытом сосуде, связь между параметрами состояния газа в изопроцессах, электризация тел, взаимодействие зарядов;

описывать механическое движение, используя физические величины: координата, путь, перемещение, скорость, ускорение, масса тела, сила, импульс тела, кинетическая энергия, потенциальная энергия, механическая работа, механическая мощность; при описании правильно трактовать физический смысл используемых величин, их обозначения и единицы, находить формулы, связывающие данную физическую величину с другими величинами;

описывать изученные тепловые свойства тел и тепловые явления, используя физические величины: давление газа, температура, средняя кинетическая энергия хаотического движения молекул, среднеквадратичная скорость молекул, количество теплоты, внутренняя энергия, работа газа, коэффициент полезного действия теплового двигателя; при описании правильно трактовать физический смысл используемых величин, их обозначения и единицы, находить формулы, связывающие данную физическую величину с другими величинами;

описывать изученные электрические свойства вещества и электрические явления (процессы), используя физические величины: электрический заряд, электрическое поле, напряжённость поля, потенциал, разность потенциалов; при описании правильно трактовать физический смысл используемых величин, их обозначения и единицы; указывать формулы, связывающие данную физическую величину с другими величинами;

анализировать физические процессы и явления, используя физические законы и принципы: закон всемирного тяготения, I, II и III законы Ньютона, закон сохранения механической энергии, закон сохранения импульса, принцип суперпозиции сил, принцип равноправия инерциальных систем отсчёта, молекулярно-кинетическую теорию строения вещества, газовые законы, связь средней кинетической энергии теплового движения молекул с абсолютной температурой, первый закон термодинамики, закон сохранения электрического заряда, закон Кулона, при этом различать словесную формулировку закона, его математическое выражение и условия (границы, области) применимости;

объяснять основные принципы действия машин, приборов и технических устройств; различать условия их безопасного использования в повседневной жизни;

выполнять эксперименты по исследованию физических явлений и процессов с использованием прямых и косвенных измерений, при этом формулировать проблему/задачу и гипотезу учебного эксперимента, собирать установку из предложенного оборудования, проводить опыт и формулировать выводы;

осуществлять прямые и косвенные измерения физических величин, при этом выбирать оптимальный способ измерения и использовать известные методы оценки погрешностей измерений;

исследовать зависимости между физическими величинами с использованием прямых измерений, при этом конструировать установку, фиксировать результаты полученной зависимости физических величин в виде таблиц и графиков, делать выводы по результатам исследования;

соблюдать правила безопасного труда при проведении исследований в рамках учебного эксперимента, учебно-исследовательской и проектной деятельности с использованием измерительных устройств и лабораторного оборудования;

решать расчётные задачи с явно заданной физической моделью, используя физические законы и принципы, на основе анализа условия задачи выбирать физическую модель, выделять физические величины и формулы, необходимые для её решения, проводить расчёты и оценивать реальность полученного значения физической величины;

решать качественные задачи: выстраивать логически непротиворечивую цепочку рассуждений с опорой на изученные законы, закономерности и физические явления;

использовать при решении учебных задач современные информационные технологии для поиска, структурирования, интерпретации и представления учебной и научно-популярной информации, полученной из различных источников, критически анализировать получаемую информацию;

приводить примеры вклада российских и зарубежных учёных-физиков в развитие науки, объяснение процессов окружающего мира, в развитие техники и технологий;

использовать теоретические знания по физике в повседневной жизни для обеспечения безопасности при обращении с приборами и техническими устройствами, для сохранения здоровья и соблюдения норм экологического поведения в окружающей среде;

работать в группе с выполнением различных социальных ролей, планировать работу группы, рационально распределять обязанности и планировать деятельность в нестандартных ситуациях, адекватно оценивать вклад каждого из участников группы в решение рассматриваемой проблемы.

К концу обучения **в 11 классе** предметные результаты на базовом уровне должны отражать сформированность у обучающихся умений:

демонстрировать на примерах роль и место физики в формировании современной научной картины мира, в развитии современной техники и технологий, в практической деятельности людей, целостность и единство физической картины мира;

учитывать границы применения изученных физических моделей: точечный электрический заряд, луч света, точечный источник света, ядерная модель атома, нуклонная модель атомного ядра при решении физических задач;

распознавать физические явления (процессы) и объяснять их на основе законов электродинамики и квантовой физики: электрическая проводимость, тепловое, световое, химическое, магнитное действия тока, взаимодействие магнитов, электромагнитная индукция, действие магнитного поля на проводник с током и движущийся заряд, электромагнитные колебания и волны, прямолинейное распространение света, отражение, преломление, интерференция, дифракция и поляризация света, дисперсия света, фотоэлектрический эффект (фотоэффект), световое давление, возникновение линейчатого спектра атома водорода, естественная и искусственная радиоактивность;

описывать изученные свойства вещества (электрические, магнитные, оптические, электрическую проводимость различных сред) и электромагнитные явления (процессы), используя физические величины: электрический заряд, сила тока, электрическое напряжение, электрическое сопротивление, разность потенциалов, электродвижущая сила, работа тока, индукция магнитного поля, сила Ампера, сила Лоренца, индуктивность катушки, энергия электрического и магнитного полей, период и частота колебаний в колебательном контуре, заряд и сила тока в процессе гармонических электромагнитных колебаний, фокусное расстояние и оптическая сила линзы, при описании правильно трактовать физический смысл используемых величин, их обозначения и единицы, указывать формулы, связывающие данную физическую величину с другими величинами;

описывать изученные квантовые явления и процессы, используя физические величины: скорость электромагнитных волн, длина волны и

частота света, энергия и импульс фотона, период полураспада, энергия связи атомных ядер, при описании правильно трактовать физический смысл используемых величин, их обозначения и единицы, указывать формулы, связывающие данную физическую величину с другими величинами, вычислять значение физической величины;

анализировать физические процессы и явления, используя физические законы и принципы: закон Ома, законы последовательного и параллельного соединения проводников, закон Джоуля–Ленца, закон электромагнитной индукции, закон прямолинейного распространения света, законы отражения света, законы преломления света, уравнение Эйнштейна для фотоэффекта, закон сохранения энергии, закон сохранения импульса, закон сохранения электрического заряда, закон сохранения массового числа, постулаты Бора, закон радиоактивного распада, при этом различать словесную формулировку закона, его математическое выражение и условия (границы, области) применимости;

определять направление вектора индукции магнитного поля проводника с током, силы Ампера и силы Лоренца;

строить и описывать изображение, создаваемое плоским зеркалом, тонкой линзой;

выполнять эксперименты по исследованию физических явлений и процессов с использованием прямых и косвенных измерений: при этом формулировать проблему/задачу и гипотезу учебного эксперимента, собирать установку из предложенного оборудования, проводить опыт и формулировать выводы;

осуществлять прямые и косвенные измерения физических величин, при этом выбирать оптимальный способ измерения и использовать известные методы оценки погрешностей измерений;

исследовать зависимости физических величин с использованием прямых измерений: при этом конструировать установку, фиксировать результаты полученной зависимости физических величин в виде таблиц и графиков, делать выводы по результатам исследования;

соблюдать правила безопасного труда при проведении исследований в рамках учебного эксперимента, учебно-исследовательской и проектной деятельности с использованием измерительных устройств и лабораторного оборудования;

решать расчётные задачи с явно заданной физической моделью, используя физические законы и принципы, на основе анализа условия задачи выбирать физическую модель, выделять физические величины и формулы,

необходимые для её решения, проводить расчёты и оценивать реальность полученного значения физической величины;

решать качественные задачи: выстраивать логически непротиворечивую цепочку рассуждений с опорой на изученные законы, закономерности и физические явления;

использовать при решении учебных задач современные информационные технологии для поиска, структурирования, интерпретации и представления учебной и научно-популярной информации, полученной из различных источников, критически анализировать получаемую информацию;

объяснять принципы действия машин, приборов и технических устройств, различать условия их безопасного использования в повседневной жизни;

приводить примеры вклада российских и зарубежных учёных-физиков в развитие науки, в объяснение процессов окружающего мира, в развитие техники и технологий;

использовать теоретические знания по физике в повседневной жизни для обеспечения безопасности при обращении с приборами и техническими устройствами, для сохранения здоровья и соблюдения норм экологического поведения в окружающей среде;

работать в группе с выполнением различных социальных ролей, планировать работу группы, рационально распределять обязанности и планировать деятельность в нестандартных ситуациях, адекватно оценивать вклад каждого из участников группы в решение рассматриваемой проблемы.

ТЕМАТИЧЕСКОЕ ПЛАНИРОВАНИЕ

10 КЛАСС

№ п/п	Наименование разделов и тем программы	Количество часов			Электронные (цифровые) образовательные ресурсы
		Всего	Контрольные работы	Практические работы	
Раздел 1.ФИЗИКА И МЕТОДЫ НАУЧНОГО ПОЗНАНИЯ					
1.1	Физика и методы научного познания	2			Библиотека ЦОК https://m.edsoo.ru/7f41bf72 ЦОР и ресурсы по физике http://class-fizik.ru/
Итого по разделу		2			
Раздел 2.МЕХАНИКА					
2.1	Кинематика	5			Библиотека ЦОК https://m.edsoo.ru/7f41bf72 ЦОР и ресурсы по физике http://class-fizik.ru/
2.2	Динамика	7			Библиотека ЦОК https://m.edsoo.ru/7f41bf72 ЦОР и ресурсы по физике http://class-fizik.ru/
2.3	Законы сохранения в механике	6	1	1	Библиотека ЦОК https://m.edsoo.ru/7f41bf72 ЦОР и ресурсы по физике http://class-fizik.ru/
Итого по разделу		18			
Раздел 3.МОЛЕКУЛЯРНАЯ ФИЗИКА И ТЕРМОДИНАМИКА					

3.1	Основы молекулярно-кинетической теории	9		1	Библиотека ЦОК https://m.edsoo.ru/7f41bf72 ЦОР и ресурсы по физике http://class-fizik.ru/
3.2	Основы термодинамики	10	1		Библиотека ЦОК https://m.edsoo.ru/7f41bf72 ЦОР и ресурсы по физике http://class-fizik.ru/
3.3	Агрегатные состояния вещества. Фазовые переходы	5			Библиотека ЦОК https://m.edsoo.ru/7f41bf72 ЦОР и ресурсы по физике http://class-fizik.ru/
Итого по разделу		24			
Раздел 4.ЭЛЕКТРОДИНАМИКА					
4.1	Электростатика	10		1	Библиотека ЦОК https://m.edsoo.ru/7f41bf72 ЦОР и ресурсы по физике http://class-fizik.ru/
4.2	Постоянный электрический ток. Токи в различных средах	12	1		Библиотека ЦОК https://m.edsoo.ru/7f41bf72 ЦОР и ресурсы по физике http://class-fizik.ru/
Итого по разделу		22			
Резервное время		2			
ОБЩЕЕ КОЛИЧЕСТВО ЧАСОВ ПО ПРОГРАММЕ		68	3	3	

11 КЛАСС

№ п/п	Наименование разделов и тем программы	Количество часов			Электронные (цифровые) образовательные ресурсы
		Всего	Контрольные работы	Практические работы	
Раздел 1.ЭЛЕКТРОДИНАМИКА					
1.1	Магнитное поле. Электромагнитная индукция	11	1	3	Библиотека ЦОК https://m.edsoo.ru/7f41c97c ЦОР и ресурсы по физике http://class- fizik.ru/ Виртуальные лабораторные работы по физике https://efizika.ru/course/view.php?id=44
Итого по разделу		11			
Раздел 2.КОЛЕБАНИЯ И ВОЛНЫ					
2.1	Механические и электромагнитные колебания	9		1	Библиотека ЦОК https://m.edsoo.ru/7f41c97c ЦОР и ресурсы по физике http://class- fizik.ru/
2.2	Механические и электромагнитные волны	5	1		Библиотека ЦОК https://m.edsoo.ru/7f41c97c ЦОР и ресурсы по физике http://class- fizik.ru/
2.3	Оптика	10		3	Библиотека ЦОК https://m.edsoo.ru/7f41c97c ЦОР и ресурсы по физике http://class- fizik.ru/ Виртуальные лабораторные работы по физике https://efizika.ru/course/view.php?id=44

Итого по разделу		24			
Раздел 3.ОСНОВЫ СПЕЦИАЛЬНОЙ ТЕОРИИ ОТНОСИТЕЛЬНОСТИ					
3.1	Основы специальной теории относительности	4	1		Библиотека ЦОК https://m.edsoo.ru/7f41c97c ЦОР и ресурсы по физике http://class-fizik.ru/
Итого по разделу		4			
Раздел 4.КВАНТОВАЯ ФИЗИКА					
4.1	Элементы квантовой оптики	6			Библиотека ЦОК https://m.edsoo.ru/7f41c97c ЦОР и ресурсы по физике http://class-fizik.ru/
4.2	Строение атома	4			Библиотека ЦОК https://m.edsoo.ru/7f41c97c ЦОР и ресурсы по физике http://class-fizik.ru/
4.3	Атомное ядро	5			Библиотека ЦОК https://m.edsoo.ru/7f41c97c ЦОР и ресурсы по физике http://class-fizik.ru/
Итого по разделу		15			
Раздел 5.ЭЛЕМЕНТЫ АСТРОНОМИИ И АСТРОФИЗИКИ					
5.1	Элементы астрономии и астрофизики	7	1		Библиотека ЦОК https://m.edsoo.ru/7f41c97c Корпорация «Российский учебник» https://rosuchebnik.ru/metodicheskaja-

					pomosch/materialy/predmet-astronomiya/
Итого по разделу		7			
Раздел 6.ОБОБЩАЮЩЕЕ ПОВТОРЕНИЕ					
6.1	Обобщающее повторение	4			Библиотека ЦОК https://m.edsoo.ru/7f41c97c ЦОР и ресурсы по физике http://class-fizik.ru/fizw.html
Итого по разделу		4			
Резервное время		3			
ОБЩЕЕ КОЛИЧЕСТВО ЧАСОВ ПО ПРОГРАММЕ		68	4	7	

ПОУРОЧНОЕ ПЛАНИРОВАНИЕ

10 КЛАСС

№ п/п	Тема урока	Количество часов			Дата изучения	Электронные цифровые образовательные ресурсы
		Всего	Контрольные работы	Практические работы		
1	Физика — наука о природе. Научные методы познания окружающего мира	1				Библиотека ЦОК https://m.edsoo.ru/ff0c32e2
2	Роль и место физики в формировании современной научной картины мира, в практической деятельности людей	1				Библиотека ЦОК https://m.edsoo.ru/ff0c33e6
3	Механическое движение. Относительность механического движения. Перемещение, скорость, ускорение	1				Библиотека ЦОК https://m.edsoo.ru/ff0c3508
4	Равномерное прямолинейное движение	1				Библиотека ЦОК https://m.edsoo.ru/ff0c3620
5	Равноускоренное прямолинейное движение	1				Библиотека ЦОК https://m.edsoo.ru/ff0c372e
6	Свободное падение. Ускорение свободного падения	1				Библиотека ЦОК https://m.edsoo.ru/ff0c39cc
7	Криволинейное движение.	1				Библиотека ЦОК

	Движение материальной точки по окружности					https://m.edsoo.ru/ff0c3ada
8	Принцип относительности Галилея. Инерциальные системы отсчета. Первый закон Ньютона	1				Библиотека ЦОК https://m.edsoo.ru/ff0c3be8
9	Масса тела. Сила. Принцип суперпозиции сил. Второй закон Ньютона для материальной точки	1				Библиотека ЦОК https://m.edsoo.ru/ff0c3be8
10	Третий закон Ньютона для материальных точек	1				Библиотека ЦОК https://m.edsoo.ru/ff0c3be8
11	Закон всемирного тяготения. Сила тяжести. Первая космическая скорость	1				Библиотека ЦОК https://m.edsoo.ru/ff0c3d00
12	Сила упругости. Закон Гука. Вес тела	1				Библиотека ЦОК https://m.edsoo.ru/ff0c3e18
13	Сила трения. Коэффициент трения. Сила сопротивления при движении тела в жидкости или газе	1				Библиотека ЦОК https://m.edsoo.ru/ff0c3f76
14	Поступательное и вращательное движение абсолютно твёрдого тела. Момент силы. Плечо силы. Условия равновесия	1				Библиотека ЦОК https://m.edsoo.ru/ff0c41a6

	твёрдого тела					
15	Импульс материальной точки, системы материальных точек. Импульс силы. Закон сохранения импульса. Реактивное движение	1				Библиотека ЦОК https://m.edsoo.ru/ff0c43d6
16	Работа и мощность силы. Кинетическая энергия материальной точки. Теорема об изменении кинетической энергии	1				Библиотека ЦОК https://m.edsoo.ru/ff0c4502
17	Потенциальная энергия. Потенциальная энергия упруго деформированной пружины. Потенциальная энергия тела вблизи поверхности Земли	1				Библиотека ЦОК https://m.edsoo.ru/ff0c461a
18	Потенциальные и непотенциальные силы. Связь работы непотенциальных сил с изменением механической энергии системы тел. Закон сохранения механической энергии	1				Библиотека ЦОК https://m.edsoo.ru/ff0c478c
19	Лабораторная работа «Исследование связи работы силы с изменением	1		1		Виртуальные лабораторные работы по физике https://efizika.ru/course/view.php?id=44

	механической энергии тела на примере растяжения резинового жгута»					
20	Контрольная работа по теме «Кинематика. Динамика. Законы сохранения в механике»	1	1			Библиотека ЦОК https://m.edsoo.ru/ff0c4b74
21	Основные положения молекулярно-кинетической теории. Броуновское движение. Диффузия	1				Библиотека ЦОК https://m.edsoo.ru/ff0c4dc2
22	Характер движения и взаимодействия частиц вещества. Модели строения газов, жидкостей и твёрдых тел	1				ЦОР и ресурсы по физике http://class-fizik.ru/
23	Масса молекул. Количество вещества. Постоянная Авогадро	1				ЦОР и ресурсы по физике http://class-fizik.ru/
24	Тепловое равновесие. Температура и её измерение. Шкала температур Цельсия	1				ЦОР и ресурсы по физике http://class-fizik.ru/
25	Идеальный газ в МКТ. Основное уравнение МКТ	1				Библиотека ЦОК https://m.edsoo.ru/ff0c4fde
26	Абсолютная температура как мера средней кинетической энергии	1				Библиотека ЦОК https://m.edsoo.ru/ff0c511e

	движения молекул. Уравнение Менделеева- Клапейрона					
27	Закон Дальтона. Газовые законы	1				ЦОР и ресурсы по физике http://class-fizik.ru/
28	Лабораторная работа «Исследование зависимости между параметрами состояния разреженного газа»	1		1		Виртуальные лабораторные работы по физике https://efizika.ru/course/view.php?id=44
29	Изопроцессы в идеальном газе и их графическое представление	1				Библиотека ЦОК https://m.edsoo.ru/ff0c570e
30	Внутренняя энергия термодинамической системы и способы её изменения. Количество теплоты и работа. Внутренняя энергия одноатомного идеального газа	1				Библиотека ЦОК https://m.edsoo.ru/ff0c5952
31	Виды теплопередачи	1				Библиотека ЦОК https://m.edsoo.ru/ff0c5c36
32	Удельная теплоёмкость вещества. Количество теплоты при теплопередаче. Адиабатный процесс	1				Библиотека ЦОК https://m.edsoo.ru/ff0c5c36
33	Первый закон	1				Библиотека ЦОК

	термодинамики и его применение к изопроцессам					https://m.edsoo.ru/ff0c5efc
34	Необратимость процессов в природе. Второй закон термодинамики	1				Библиотека ЦОК https://m.edsoo.ru/ff0c6230
35	Принцип действия и КПД тепловой машины	1				Библиотека ЦОК https://m.edsoo.ru/ff0c600a
36	Цикл Карно и его КПД	1				ЦОР и ресурсы по физике http://class-fizik.ru/
37	Экологические проблемы теплоэнергетики	1				ЦОР и ресурсы по физике http://class-fizik.ru/
38	Обобщающий урок «Молекулярная физика. Основы термодинамики»	1				Библиотека ЦОК https://m.edsoo.ru/ff0c6938
39	Контрольная работа по теме «Молекулярная физика. Основы термодинамики»	1	1			Библиотека ЦОК https://m.edsoo.ru/ff0c6a50
40	Парообразование и конденсация. Испарение и кипение	1				Библиотека ЦОК https://m.edsoo.ru/ff0c63b6
41	Абсолютная и относительная влажность воздуха. Насыщенный пар	1				Библиотека ЦОК https://m.edsoo.ru/ff0c64d8
42	Твёрдое тело. Кристаллические и аморфные тела.	1				Библиотека ЦОК https://m.edsoo.ru/ff0c65f0

	Анизотропия свойств кристаллов. Жидкие кристаллы. Современные материалы					
43	Плавление и кристаллизация. Удельная теплота плавления. Сублимация	1				Библиотека ЦОК https://m.edsoo.ru/ff0c6708
44	Уравнение теплового баланса	1				Библиотека ЦОК https://m.edsoo.ru/ff0c6820
45	Электризация тел. Электрический заряд. Два вида электрических зарядов	1				Библиотека ЦОК https://m.edsoo.ru/ff0c6bcc
46	Проводники, диэлектрики и полупроводники. Закон сохранения электрического заряда	1				Библиотека ЦОК https://m.edsoo.ru/ff0c6bcc
47	Взаимодействие зарядов. Закон Кулона. Точечный электрический заряд	1				Библиотека ЦОК https://m.edsoo.ru/ff0c6ce4
48	Напряжённость электрического поля. Принцип суперпозиции электрических полей. Линии напряжённости	1				Библиотека ЦОК https://m.edsoo.ru/ff0c6df2
49	Работа сил электростатического поля. Потенциал. Разность	1				Библиотека ЦОК https://m.edsoo.ru/ff0c6f00

	потенциалов					
50	Проводники и диэлектрики в электростатическом поле. Диэлектрическая проницаемость	1				Библиотека ЦОК https://m.edsoo.ru/ff0c7018
51	Емкость. Конденсатор	1				Библиотека ЦОК https://m.edsoo.ru/ff0c7126
52	Емкость плоского конденсатора. Энергия заряженного конденсатора	1				Библиотека ЦОК https://m.edsoo.ru/ff0c72c0
53	Лабораторная работа "Измерение емкости конденсатора"	1		1		Виртуальные лабораторные работы по физике https://efizika.ru/course/view.php?id=44
54	Принцип действия и применение конденсаторов, копировального аппарата, струйного принтера. Электростатическая защита. Заземление электроприборов	1				ЦОР и ресурсы по физике http://class-fizik.ru/
55	Электрический ток, условия его существования. Постоянный ток. Сила тока. Напряжение. Сопротивление. Закон Ома для участка цепи	1				ЦОР и ресурсы по физике http://class-fizik.ru/
56	Последовательное,	1				Библиотека ЦОК https://m.edsoo.ru/ff0c74f0

	параллельное, смешанное соединение проводников. Лабораторная работа «Изучение смешанного соединения резисторов»					
57	Работа и мощность электрического тока. Закон Джоуля-Ленца	1				Библиотека ЦОК https://m.edsoo.ru/ff0c7838
58	Закон Ома для полной (замкнутой) электрической цепи. Короткое замыкание. Лабораторная работа «Измерение ЭДС источника тока и его внутреннего сопротивления»	1				Библиотека ЦОК https://m.edsoo.ru/ff0c7ae0
59	Электронная проводимость твёрдых металлов. Зависимость сопротивления металлов от температуры. Сверхпроводимость	1				ЦОР и ресурсы по физике http://class-fizik.ru/
60	Электрический ток в вакууме. Свойства электронных пучков	1				ЦОР и ресурсы по физике http://class-fizik.ru/
61	Полупроводники, их собственная и примесная проводимость. Свойства р—n-перехода.	1				Библиотека ЦОК https://m.edsoo.ru/ff0c84ae

	Полупроводниковые приборы					
62	Электрический ток в растворах и расплавах электролитов. Электролитическая диссоциация. Электролиз	1				Библиотека ЦОК https://m.edsoo.ru/ff0c82ba
63	Электрический ток в газах. Самостоятельный и несамостоятельный разряд. Молния. Плазма	1				Библиотека ЦОК https://m.edsoo.ru/ff0c84ae
64	Электрические приборы и устройства и их практическое применение. Правила техники безопасности	1				Библиотека ЦОК https://m.edsoo.ru/ff0c86fc
65	Обобщающий урок «Электродинамика»	1				Библиотека ЦОК https://m.edsoo.ru/ff0c88be
66	Контрольная работа по теме «Электростатика. Постоянный электрический ток. Токи в различных средах»	1	1			Библиотека ЦОК https://m.edsoo.ru/ff0c8a8a
67	Резервный урок. Контрольная работа по теме "Электродинамика"	1				Библиотека ЦОК https://m.edsoo.ru/ff0c8c56
68	Резервный урок. Обобщающий урок по	1				Библиотека ЦОК https://m.edsoo.ru/ff0c8f6c

	темам 10 класса					
ОБЩЕЕ КОЛИЧЕСТВО ЧАСОВ ПО ПРОГРАММЕ		68	3	3		

11 КЛАСС

№ п/п	Тема урока	Количество часов			Дата изучения	Электронные цифровые образовательные ресурсы
		Всего	Контрольные работы	Практические работы		
1	Постоянные магниты и их взаимодействие. Магнитное поле. Вектор магнитной индукции. Линии магнитной индукции	1				Библиотека ЦОК https://m.edsoo.ru/ff0c9778
2	Магнитное поле проводника с током. Опыт Эрстеда. Взаимодействие проводников с током	1				Библиотека ЦОК https://m.edsoo.ru/ff0c98fe
3	Лабораторная работа «Изучение магнитного поля катушки с током»	1		1		Библиотека ЦОК https://m.edsoo.ru/ff0c98fe
4	Действие магнитного поля на проводник с током. Сила Ампера. Лабораторная работа «Исследование действия постоянного магнита на рамку с током»	1		1		Библиотека ЦОК https://m.edsoo.ru/ff0c9ac0
5	Действие магнитного поля на движущуюся заряженную частицу. Сила Лоренца. Работа силы	1				Библиотека ЦОК https://m.edsoo.ru/ff0c9df4

	Лоренца					
6	Электромагнитная индукция. Поток вектора магнитной индукции. ЭДС индукции. Закон электромагнитной индукции Фарадея	1				ЦОР и ресурсы по физике http://class-fizik.ru/
7	Лабораторная работа «Исследование явления электромагнитной индукции»	1		1		Библиотека ЦОК https://m.edsoo.ru/ff0ca150
8	Индуктивность. Явление самоиндукции. ЭДС самоиндукции. Энергия магнитного поля катушки с током. Электромагнитное поле	1				Библиотека ЦОК https://m.edsoo.ru/ff0ca600
9	Технические устройства и их применение: постоянные магниты, электромагниты, электродвигатель, ускорители элементарных частиц, индукционная печь	1				ЦОР и ресурсы по физике http://class-fizik.ru/
10	Обобщающий урок «Магнитное поле. Электромагнитная индукция»	1				Библиотека ЦОК https://m.edsoo.ru/ff0cab82
11	Контрольная работа по	1	1			Библиотека ЦОК

	теме «Магнитное поле. Электромагнитная индукция»					https://m.edsoo.ru/ff0cad58
12	Свободные механические колебания. Гармонические колебания. Уравнение гармонических колебаний. Превращение энергии	1				Библиотека ЦОК https://m.edsoo.ru/ff0caf06
13	Лабораторная работа «Исследование зависимости периода малых колебаний груза на нити от длины нити и массы груза»	1		1		Виртуальные лабораторные работы по физике https://efizika.ru/course/view.php?id=44
14	Колебательный контур. Свободные электромагнитные колебания в идеальном колебательном контуре. Аналогия между механическими и электромагнитными колебаниями	1				Библиотека ЦОК https://m.edsoo.ru/ff0cb820
15	Формула Томсона. Закон сохранения энергии в идеальном колебательном контуре	1				Библиотека ЦОК https://m.edsoo.ru/ff0cb9c4
16	Представление о затухающих колебаниях.	1				Библиотека ЦОК https://m.edsoo.ru/ff0cbb86

	Вынужденные механические колебания. Резонанс. Вынужденные электромагнитные колебания					
17	Переменный ток. Синусоидальный переменный ток. Мощность переменного тока. Амплитудное и действующее значение силы тока и напряжения	1				Библиотека ЦОК https://m.edsoo.ru/ff0cbd34
18	Трансформатор. Производство, передача и потребление электрической энергии	1				ЦОР и ресурсы по физике http://class-fizik.ru/fizw.html
19	Устройство и практическое применение электрического звонка, генератора переменного тока, линий электропередач	1				Библиотека ЦОК https://m.edsoo.ru/ff0cc324
20	Экологические риски при производстве электроэнергии. Культура использования электроэнергии в повседневной жизни	1				ЦОР и ресурсы по физике http://class-fizik.ru/
21	Механические волны, условия распространения.	1				Библиотека ЦОК https://m.edsoo.ru/ff0cca54

	Период. Скорость распространения и длина волны. Поперечные и продольные волны					
22	Звук. Скорость звука. Громкость звука. Высота тона. Тембр звука	1				Библиотека ЦОК https://m.edsoo.ru/ff0ccc0c
23	Электромагнитные волны, их свойства и скорость. Шкала электромагнитных волн	1				Библиотека ЦОК https://m.edsoo.ru/ff0ccfe0
24	Принципы радиосвязи и телевидения. Развитие средств связи. Радиолокация	1				ЦОР и ресурсы по физике http://class-fizik.ru/
25	Контрольная работа «Колебания и волны»	1	1			Библиотека ЦОК https://m.edsoo.ru/ff0cc6f8
26	Прямолинейное распространение света в однородной среде. Точечный источник света. Луч света	1				Библиотека ЦОК https://m.edsoo.ru/ff0cd350
27	Отражение света. Законы отражения света. Построение изображений в плоском зеркале	1				Библиотека ЦОК https://m.edsoo.ru/ff0cd4e0
28	Преломление света. Полное внутреннее отражение.	1				Библиотека ЦОК https://m.edsoo.ru/ff0cd7f6

	Предельный угол полного внутреннего отражения					
29	Лабораторная работа «Измерение показателя преломления стекла»	1		1		Библиотека ЦОК https://m.edsoo.ru/ff0cd67a
30	Линзы. Построение изображений в линзе. Формула тонкой линзы. Увеличение линзы	1				Библиотека ЦОК https://m.edsoo.ru/ff0cdd1e
31	Лабораторная работа «Исследование свойств изображений в линзах»	1		1		ЦОР и ресурсы по физике http://class-fizik.ru/fizw.html
32	Дисперсия света. Сложный состав белого света. Цвет. Лабораторная работа «Наблюдение дисперсии света»	1		1		ЦОР и ресурсы по физике http://class-fizik.ru/
33	Интерференция света. Дифракция света. Дифракционная решётка	1				Библиотека ЦОК https://m.edsoo.ru/ff0ced22
34	Поперечность световых волн. Поляризация света	1				Библиотека ЦОК https://m.edsoo.ru/ff0cf02e
35	Оптические приборы и устройства и условия их безопасного применения	1				ЦОР и ресурсы по физике http://class-fizik.ru/
36	Границы применимости классической механики. Постулаты специальной	1				Библиотека ЦОК https://m.edsoo.ru/ff0cf862

	теории относительности					
37	Относительность одновременности. Замедление времени и сокращение длины	1				Библиотека ЦОК https://m.edsoo.ru/ff0cfa42
38	Энергия и импульс релятивистской частицы. Связь массы с энергией и импульсом. Энергия покоя	1				Библиотека ЦОК https://m.edsoo.ru/ff0cfc68
39	Контрольная работа «Оптика. Основы специальной теории относительности»	1	1			Библиотека ЦОК https://m.edsoo.ru/ff0cf6f0
40	Фотоны. Формула Планка. Энергия и импульс фотона	1				Библиотека ЦОК https://m.edsoo.ru/ff0cfe16
41	Открытие и исследование фотоэффекта. Опыты А. Г. Столетова	1				Библиотека ЦОК https://m.edsoo.ru/ff0cffc4
42	Законы фотоэффекта. Уравнение Эйнштейна для фотоэффекта. «Красная граница» фотоэффекта	1				Библиотека ЦОК https://m.edsoo.ru/ff0d015e
43	Давление света. Опыты П. Н. Лебедева. Химическое действие света	1				Библиотека ЦОК https://m.edsoo.ru/ff0d04a6
44	Технические устройства и практическое применение: фотоэлемент, фотодатчик,	1				ЦОР и ресурсы по физике http://class-fizik.ru/

	солнечная батарея, светодиод					
45	Решение задач по теме «Элементы квантовой оптики»	1				Библиотека ЦОК https://m.edsoo.ru/ff0d0302
46	Модель атома Томсона. Опыты Резерфорда по рассеянию α -частиц. Планетарная модель атома	1				Библиотека ЦОК https://m.edsoo.ru/ff0d091a
47	Постулаты Бора	1				Библиотека ЦОК https://m.edsoo.ru/ff0d0afa
48	Излучение и поглощение фотонов при переходе атома с одного уровня энергии на другой. Виды спектров	1				Библиотека ЦОК https://m.edsoo.ru/ff0d0afa
49	Волновые свойства частиц. Волны де Бройля. Корпускулярно-волновой дуализм. Спонтанное и вынужденное излучение	1				Библиотека ЦОК https://m.edsoo.ru/ff0d0ca8
50	Открытие радиоактивности. Опыты Резерфорда по определению состава радиоактивного излучения	1				Библиотека ЦОК https://m.edsoo.ru/ff0d0fd2
51	Свойства альфа-, бета-, гамма-излучения. Влияние радиоактивности на живые	1				ЦОР и ресурсы по физике http://class-fizik.ru/

	организмы					
52	Открытие протона и нейтрона. Изотопы. Альфа-распад. Электронный и позитронный бета-распад. Гамма-излучение	1				Библиотека ЦОК https://m.edsoo.ru/ff0d1162
53	Энергия связи нуклонов в ядре. Ядерные реакции. Ядерный реактор. Проблемы, перспективы, экологические аспекты ядерной энергетики	1				Библиотека ЦОК https://m.edsoo.ru/ff0d1356
54	Элементарные частицы. Открытие позитрона. Методы наблюдения и регистрации элементарных частиц. Круглый стол «Фундаментальные взаимодействия. Единство физической картины мира»	1				Библиотека ЦОК https://m.edsoo.ru/ff0d0e38
55	Вид звёздного неба. Созвездия, яркие звёзды, планеты, их видимое движение. Солнечная система	1				Корпорация «Российский учебник» https://rosuchebnik.ru/metodicheskaja-pomosch/materialy/predmet-astronomiya/
56	Солнце. Солнечная активность. Источник энергии Солнца и звёзд	1				Корпорация «Российский учебник» https://rosuchebnik.ru/metodicheskaja-pomosch/materialy/predmet-

						astronomiya/
57	Звёзды, их основные характеристики. Звёзды главной последовательности. Внутреннее строение звёзд. Современные представления о происхождении и эволюции Солнца и звёзд	1				Корпорация «Российский учебник» https://rosuchebnik.ru/metodicheskaja-pomosch/materialy/predmet-astronomiya/
58	Млечный Путь — наша Галактика. Положение и движение Солнца в Галактике. Галактики. Чёрные дыры в ядрах галактик	1				Корпорация «Российский учебник» https://rosuchebnik.ru/metodicheskaja-pomosch/materialy/predmet-astronomiya/
59	Вселенная. Разбегание галактик. Теория Большого взрыва. Реликтовое излучение. Метагалактика	1				Корпорация «Российский учебник» https://rosuchebnik.ru/metodicheskaja-pomosch/materialy/predmet-astronomiya/
60	Нерешенные проблемы астрономии	1				Корпорация «Российский учебник» https://rosuchebnik.ru/metodicheskaja-pomosch/materialy/predmet-astronomiya/
61	Контрольная работа «Элементы астрономии и астрофизики»	1	1			Корпорация «Российский учебник» https://rosuchebnik.ru/metodicheskaja-pomosch/materialy/predmet-astronomiya/

						astronomiya/
62	Обобщающий урок. Роль физики и астрономии в экономической, технологической, социальной и этической сферах деятельности человека	1				Корпорация "Российский учебник" https://rosuchebnik.ru/metodicheskaja-pomosch/materialy/predmet-astronomiya/
63	Обобщающий урок. Роль и место физики и астрономии в современной научной картине мира	1				Корпорация «Российский учебник» https://rosuchebnik.ru/metodicheskaja-pomosch/materialy/predmet-astronomiya/
64	Обобщающий урок. Роль физической теории в формировании представлений о физической картине мира	1				ЦОР и ресурсы по физике http://class-fizik.ru/fizw.html
65	Обобщающий урок. Место физической картины мира в общем ряду современных естественно-научных представлений о природе	1				ЦОР и ресурсы по физике http://class-fizik.ru/fizw.html
66	Резервный урок. Магнитное поле. Электромагнитная индукция	1				ЦОР и ресурсы по физике http://class-fizik.ru/fizw.html
67	Резервный урок. Оптика. Основы специальной	1				ЦОР и ресурсы по физике http://class-fizik.ru/fizw.html

	теории относительности					
68	Резервный урок. Квантовая физика. Элементы астрономии и астрофизики	1				Библиотека ЦОК https://m.edsoo.ru/ff0d1784
ОБЩЕЕ КОЛИЧЕСТВО ЧАСОВ ПО ПРОГРАММЕ		68	4	7		

УЧЕБНО-МЕТОДИЧЕСКОЕ ОБЕСПЕЧЕНИЕ ОБРАЗОВАТЕЛЬНОГО ПРОЦЕССА

к итоговому тестированию по физике для промежуточной аттестации обучающихся 10 класса

Итоговое тестирование по физике для обучающихся 10 класса составлено на основе Федерального государственного общеобразовательного стандарта основного общего образования, в соответствии с действующей программой по физике.

Цель тестирования - оценить общеобразовательную подготовку учащихся по физике за курс 10 класса, занимающихся по учебнику Мякишев Г.Я., Буховцев Б.Б., Сотский Н.Н.; под редакцией Парфентьевой Н.А., Физика: учебник для 10 класса общеобразовательных учреждений – М.: Просвещение, 2014

Итоговое тестирование представлено в двух вариантах и рассчитано на 40 минут .

Работа состоит из 22 заданий, которые разделены на три части.

Часть 1 содержит 22 задания (А1-А17). К каждому заданию даны 4 варианта ответов, из которых только один верный. Каждое задание оценивается в 1 балл.

Часть 2 (В1-В2) содержит задания, в которых необходимо записать ответ в виде набора цифр. Каждое правильно выполненное задание части 2 оценивается в 1 балл.

Часть 3 содержит 3 задачи (С1-С3), которые требуют полного ответа. Каждая задача оценивается в 2 балла.

Содержание заданий включает основные понятия, законы и явления, необходимые для усвоения изученного материала.

Распределение заданий по основным темам курса физики

№ п./п	Тема	Количество Заданий	Уровень сложности		
			1-й	2-й	3-й
1	Кинематика точки	6	4	1	1
2	Законы механики, силы в механике	2	2		
3	Закон сохранения импульса, энергии	3	2		1
4	Молекулярная физика	3	3		
5	Термодинамика	2	1	1	
6	Электростатика	3	2		1
7	Законы постоянного тока	3	2	1	
	ИТОГО	22	16	3	3

№ задания	1	2	3	4	5	6	7	8	9	10	11	12	13	14	15	16	17	18	19	20	21	22
№ темы	1	1	1	1	2	2	3	3	4	4	4	5	5	6	6	7	7	7	1	6	1	3
уровень слож-ти	1	1	1	1	1	1	1	1	1	1	1	1	2	1	1	1	1	2	1	3	3	3

Таблица распределения заданий в итоговом тесте по уровням сложности

Ключи к итоговому тесту за 10 класс:

№ задания	1	2	3	4	5	6	7	8	9	10	11	12	13	14	15	16	17	18	19	20	21	22
№ ответа	3	1	3	4	2	3	2	4	5	4	3	2	2	1	3	3	3	211	4521	$5 \cdot 10^{-6}$	19	1

(1 вар)																					кН	м/с
№ ответа	3	1	4	3	3	2	4	2	4	1	4	1	2	3	3	3	1	211	3125	10	28кН	4
(2 вар)																						м/с

Шкала для перевода числа правильных ответов в оценку по пятибалльной шкале:

Число правильных ответов	0 - 10	11-15	16-18	19-22
Оценка в баллах	2	3	4	5

Итоговое тестирование по физике за курс 10 класса

1 вариант

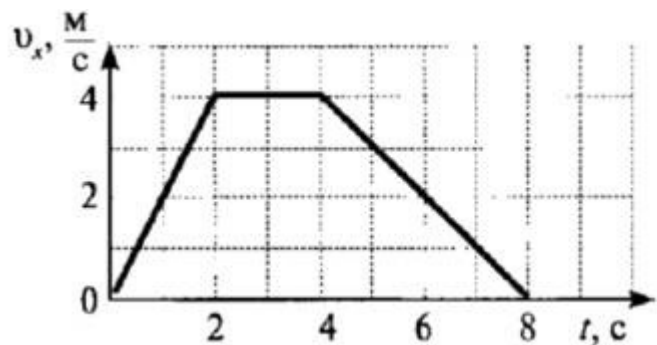
Часть 1

A1. Какое тело из перечисленных ниже оставляет видимую траекторию?

- 1) Камень, падающий в горах 2) Мяч во время игры 3) Лыжник, прокладывающий новую трассу 4) Легкоатлет, совершающий прыжок в высоту

A2. Во время подъема в гору скорость велосипедиста, двигающегося прямолинейно и равноускоренно, изменилась за 8 с от 5 м/с до 3 м/с. При этом ускорение велосипедиста было равно

- 1) -0,25 м/с² 2) 0,25 м/с² 3) -0,9 м/с² 4) 0,9 м/с²



А3. На рисунке представлен график зависимости проекции скорости тела от времени. Какой путь прошло тело за интервал времени от 2 до 8 с?

- 1) 32 м 2) 20 м 3) 16 м 4) 8 м

А4. Точка движется с постоянной по модулю скоростью по окружности радиуса R . Как изменится центростремительное ускорение точки, если ее скорость увеличить вдвое, а радиус окружности вдвое уменьшить?

- 1) уменьшится в 2 раза 2) увеличится в 4 раза 3) увеличится в 2 раза 4) увеличится в 8 раз

А5. Какое ускорение приобретает тело массой 5 кг под действием силы 20 Н?

- 1) $0,25 \text{ м/с}^2$ 2) 4 м/с^2 3) $2,5 \text{ м/с}^2$ 4) 50 м/с^2

А6. Человек вез двух одинаковых детей на санках по горизонтальной дороге. Затем с санок встал один ребенок, но человек продолжал движение с той же постоянной скоростью. Как изменилась сила трения при этом?

- 1) не изменилась 2) увеличилась в 2 раза 3) уменьшилась в 2 раза 4) увеличилась на 50%

А7. Тело массой 2 кг движется со скоростью 3 м/с. Каков импульс тела?

- 1) $5 \text{ кг} \cdot \text{м/с}$ 2) $6 \text{ кг} \cdot \text{м/с}$ 3) $1 \text{ кг} \cdot \text{м/с}$ 4) $18 \text{ кг} \cdot \text{м/с}$

А8. Хоккейная шайба массой 160 г летит со скоростью 36 км/ч. Какова ее кинетическая энергия?

- 1) 1,6 Дж, 2) 104 Дж, 3) 0,8 Дж, 4) 8 Дж

А9. Диффузия в твердых телах происходит медленнее, чем в газах, так как

- 1) молекулы твердого тела тяжелее, чем молекулы газа
2) молекулы твердого тела больше, чем молекулы газа,
3) молекулы твердого тела менее подвижны, чем молекулы газа
4) молекулы твердого тела взаимодействуют слабее, чем молекулы газа

А10. Как изменилось давление идеального газа, если в данном объеме скорость каждой молекулы уменьшилась в 2 раза, а концентрация осталась неизменной?

- 1) увеличилось в 4 раза, 2) увеличилось в 2 раза, 3) не изменилось, 4) уменьшилось в 4 раза

A11. Какое из приведенных ниже выражений соответствует формуле количества вещества?

- 1) $\frac{M}{N_A}$ 2) $\frac{M}{m_0}$ 3) $\frac{N}{N_A}$ 4) $\nu \cdot N_A$

A12. Воздух в комнате состоит из смеси газов: водорода, кислорода, азота, водяных паров, углекислого газа и др. Какой из физических параметров этих газов обязательно одинаков при тепловом равновесии?

- 1) давление 2) температура 3) концентрация 4) плотность

A13. Газ совершил работу 400 Дж, и при этом его внутренняя энергия уменьшилась на 100 Дж. В этом процессе газ

- 1) получил количество теплоты 500 Дж 2) получил количество теплоты 300 Дж
3) отдал количество теплоты 500 Дж 4) отдал количество теплоты 300 Дж

A14. От водяной капли, обладавшей зарядом $+q$, отделилась капля с электрическим зарядом $-q$. Каким стал заряд оставшейся капли?

- 1) $+2q$ 2) $+q$ 3) $-q$ 4) $-2q$

A15. Два точечных заряда притягиваются друг к другу только в том случае, если заряды

- 1) одинаковы по знаку и по модулю
2) одинаковы по знаку, но обязательно различны по модулю
3) различны по знаку и любые по модулю
4) различны по знаку, но обязательно одинаковы по модулю

A16. Напряжение на концах резистора равно 60 В, сила тока в резисторе равна 3 А. Чему равно сопротивление резистора?

- 1) 0,04 Ом 2) 0,05 Ом 3) 20 Ом 4) 180 Ом

A17. ЭДС источника равна 8 В, внешнее сопротивление 3 Ом, внутреннее сопротивление 1 Ом. Сила тока в полной цепи равна

- 1) 32 А 2) 25 А 3) 2 А 4) 0,5 А

Часть 2

B1. Во время ремонта электроплитки укоротили ее спираль. Как изменились при этом сопротивление спирали, сила тока и мощность электроплитки? Напряжение в сети остается неизменным.

К каждой позиции первого столбца подберите соответствующую позицию второго столбца и запишите в таблицу.

Физическая величина	Изменение величины
А) сопротивление спирали	1) увеличится
Б) сила тока в спирали	2) уменьшается
В) выделяющаяся мощность	3) не изменится

B2. Поставьте в соответствие физическую величину и единицу ее измерения в СИ.

Физическая величина	Единица величины
А) скорость	1) м/с^2
Б) путь	2) $\text{кг}\cdot\text{м/с}$
В) импульс	3) $\text{кг}\cdot\text{м/с}^2$
Г) ускорение	4) м/с
	5) м

К каждой позиции первого столбца подберите соответствующую позицию второго столбца и запишите в таблицу.

Часть 3

C1. Два неподвижных заряда 0,5 нКл и 4 нКл находятся в вакууме на расстоянии 6 см друг от друга. Чему равна кулоновская сила взаимодействия между ними?

C2. Автомобиль массой 2 т движется по выпуклому мосту, имеющему радиус кривизны 200 м, со скоростью 36 км/ч. Найдите силу нормального давления в верхней точке траектории.

C3. Тележка массой 2 кг, движущаяся со скоростью 3 м/с, сталкивается с неподвижной тележкой массой 4 кг и сцепляется с ней. Чему будет равна скорость обеих тележек после взаимодействия?

Итоговое тестирование по физике за курс 10 класса

2 вариант

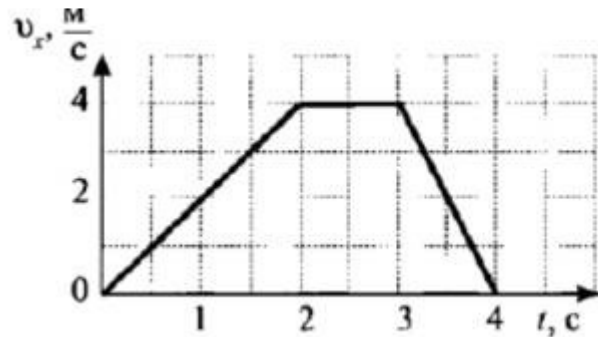
Часть 1

A1. Исследуется перемещение бабочки и лошади. Модель материальной точки может использоваться для описания движения

- 1) только лошади 2) только бабочки 3) и лошади, и бабочки
4) ни лошади, ни бабочки

A2. Санки съехали с одной горки и въехали на другую. Во время подъема на горку скорость санок, двигавшихся прямолинейно и равноускоренно, за 4 с изменилась от 43,2 км/ч до 7,2 км/ч. При этом модуль ускорения был равен

- 1) $-2,5 \text{ м/с}^2$ 2) $2,5 \text{ м/с}^2$ 3) $3,5 \text{ м/с}^2$ 4) $-3,5 \text{ м/с}^2$



A3. На рисунке представлен график зависимости проекции скорости тела от времени. Какой путь прошло тело за интервал времени от 0 до 3 с?

- 1) 32 м 2) 20 м 3) 16 м 4) 8 м

A4. Материальная точка движется по окружности с постоянной по модулю скоростью. Как изменится модуль ее центростремительного ускорения, если скорость точки увеличить в 2 раза?

- 1) не изменится 2) уменьшится в 2 раза 3) увеличится в 4 раза 4) уменьшится в 4 раза

A5. Легкоподвижную тележку массой 3 кг толкают с силой 6 Н. Ускорение тележки в инерциальной системе отсчета равно

- 1) 18 м/с^2 2) $1,67 \text{ м/с}^2$ 3) 2 м/с^2 4) $0,5 \text{ м/с}^2$

А6. Человек вез ребенка на санках по горизонтальной дороге. Затем на санки сел второй такой же ребенок, но человек продолжал движение с той же постоянной скоростью. Как изменилась сила трения при этом?

- 1) не изменилась 2) увеличилась в 2 раза
3) уменьшилась в 2 раза 4) увеличилась на 50%

А7. Тело массой 4 кг движется со скоростью 3 м/с. Каков импульс тела?

- 1) $1 \text{ кг} \cdot \text{м/с}$ 2) $0,75 \text{ кг} \cdot \text{м/с}$ 3) $24 \text{ кг} \cdot \text{м/с}$ 4) $12 \text{ кг} \cdot \text{м/с}$

А8. Мальчик подбросил футбольный мяч массой 0,4 кг на высоту 3 м. На сколько изменилась потенциальная энергия мяча?

- 1) 4 Дж, 2) 12 Дж, 3) 1,2 Дж 4) 7,5 Дж

А9. Какое явление доказывает, что между молекулами действуют силы отталкивания?

- 1) диффузия, 2) броуновское движение, 3) смачивание,
4) существование сил упругости

А10. Внутренняя энергия тела зависит

- 1) только от скорости тела 2) только от положения этого тела относительно других тел
3) только от температуры тела 4) от температуры и объема тела

А11. Что определяет произведение $\frac{3}{2}kT$?

- 1) давление идеального газа 2) абсолютную температуру идеального газа
3) внутреннюю энергию идеального газа 4) среднюю кинетическую энергию молекулы

А12. Температура тела А равна 300 К, температуры тела Б равна 100°C . Температура какого из тел повысится при тепловом контакте?

1) тела А 2) тела Б 3) температуры тел не изменяются

4) температуры тел могут только понижаться

A13. Идеальный газ получил количество теплоты 300 Дж, и внутренняя энергия газа увеличилась на 100 Дж. При этом

1) газ совершил работу 400 Дж 2) газ совершил работу 200 Дж

3) над газом совершили работу 400 Дж 4) над газом совершили работу 100 Дж

A14. К водяной капле, имевшей заряд $+3e$, присоединилась капля с зарядом $-4e$. Каким стал электрический заряд объединенной капли?

1) $+e$ 2) $+7e$ 3) $-e$ 4) $-7e$

A15. При расчесывании волос пластмассовой расческой волосы заряжаются положительно. Это объясняется тем, что

1) электроны переходят с расчески на волосы 2) протоны переходят с расчески на волосы 3) электроны переходят с волос на расческу 4) протоны переходят с волос на расческу

A16. Сила тока, идущего по проводнику, равна 2 А. Какой заряд пройдет по проводнику за 10 с?

1) 0,2 Кл 2) 5 Кл 3) 20 Кл 4) 2 Кл

A17. Электрическая цепь состоит из источника тока внутренним сопротивлением 1 Ом с ЭДС, равной 10 В, резистора сопротивлением 4 Ом. Сила тока в цепи равна

1) 2 А 2) 2,5 А 3) 10 А 4) 50 А

Часть 2

B1. К концам длинного однородного проводника приложено напряжение U . Провод заменили на другой, площадь сечения которого в 2 раза больше, и приложили к нему прежнее напряжение. Что произойдет при этом с сопротивлением проводника, силой тока и мощностью?

К каждой позиции первого столбца подберите соответствующую позицию второго и запишите в таблицу.

Физическая величина	Изменение величины
---------------------	--------------------

А) сопротивление спирали	1) увеличится
--------------------------	---------------

Б) сила тока в спирали	2) уменьшается
------------------------	----------------

В) выделяющаяся мощность 3) не изменится

В2. Поставьте в соответствие физическую величину и единицу ее измерения в СИ.

Физическая величина Единица величины

А) плотность 1) м/с^2

Б) ускорение 2) $\text{кг}\cdot\text{м/с}^2$

В) сила 3) кг/м^3

Г) объем 4) м/с

5) м^3

К каждой позиции первого столбца подберите соответствующую позицию второго и запишите в таблицу.

Часть 3

С1. Два неподвижных точечных заряда 4 нКл и 6 нКл, находясь на расстоянии R друг от друга, взаимодействуют с силой $F = 135 \text{ Н}$. Чему равно расстояние R?

С2. Автомобиль массой 3 т движется по выпуклому мосту, имеющему радиус кривизны 300 м, со скоростью 54 км/ч. Найдите силу нормального давления в верхней точке траектории.

С3. Человек массой 70 кг прыгнул с берега в неподвижную лодку, находящуюся у берега, со скоростью 6 м/с. С какой скоростью станет двигаться лодка вместе с человеком, если масса лодки 35 кг?

Бланк ответов

Фамилия, имя _____ вариант _____

Часть 1

1	2	3	4	5	6	7	8	9	10	11	12	13	14	15	16	17

Часть 2

B1			B2			
A	Б	В	A	Б	В	Г

Пояснительная записка

Итоговая контрольная работа за курс физики 11 класса

Базовый уровень

-

Контрольная работа предполагает проверку знаний учащихся по всем темам курса физики 11 класса на базовом уровне.

В работу включены задания по темам:

Тема курса физики 11 класса	№№ заданий
Магнитное поле	1-3
Электромагнитная индукция.	4-6
Колебания и волны	7-9
Оптика	10-12
Излучения и спектры.	13-15
Физика атома и атомного ядра.	16-18

Количество вариантов-2

Критерии оценивания:

«5»- 30б

«4» 24-296

«3» 18-23 б

«2»- менее 18 б

Вариант №1

1. Длина активной части проводника 20 см. Угол между направлением тока и индукцией магнитного поля равен 90° . С какой силой магнитное поле с индукцией 50 мТл действует на проводник, если сила тока в нем 10 А?
2. Определите индуктивность катушки, которую при силе тока 6 А пронизывает магнитный поток 120 мВб.
3. Установить соответствие:

- | | |
|-----------------------|-------|
| А. Магнитный поток | 1. Тл |
| Б. Магнитная индукция | 2. Дж |
| В. Индуктивность | 3. Гн |
| | 4. Вб |

А	Б	В
---	---	---

4. Один раз металлическое кольцо падает на стоящий вертикально полосовой магнит так, что надевается на него, второй раз так, что пролетает мимо него. Плоскость кольца в обоих случаях горизонтальна. Ток в кольце

1)	возникает в обоих случаях
2)	не возникает ни в одном из случаев
3)	возникает только в первом случае
4)	возникает только во втором случае

5. Найдите ЭДС индукции в контуре, если за 0,01 с магнитный поток увеличился на 400 мВб.

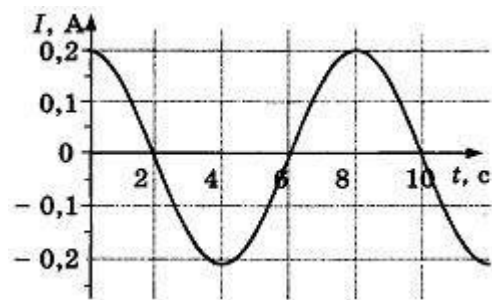
6. Электромагнитная индукция – это:

- 1) явление, характеризующее действие магнитного поля на движущийся заряд;
- 2) явление возникновения в замкнутом контуре электрического тока при изменении магнитного потока;
- 3) явление, характеризующее действие магнитного поля на проводник с током.

7. Математический маятник совершает свободные гармонические колебания. Какую величину можно определить, если известны длина l и период колебаний T маятника?

1)	массу m маятника
2)	ускорение свободного падения g
3)	амплитуду A колебаний маятника
4)	максимальную кинетическую энергию W_k маятника

8. На рисунке показан график зависимости силы тока в металлическом проводнике от времени. Определите частоту колебаний тока.

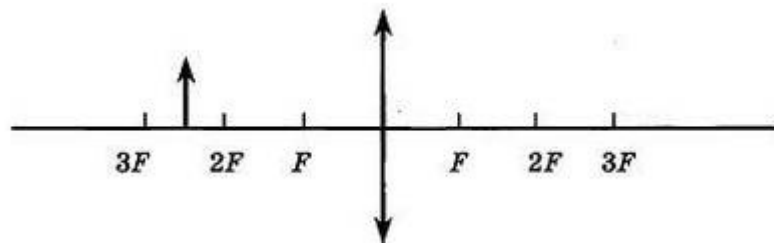


- 1) 8 Гц
- 2) 0,125 Гц
- 3) 6 Гц
- 4) 4 Гц

9. Расстояние между ближайшими гребнями волн 10м. Какова частота ударов волн о корпус, если скорость волн 3 м/с ?

10. Луч света падает на плоское зеркало. Угол отражения равен 24° . Угол между падающим лучом и зеркалом....

11. Если предмет находится от собирающей линзы на расстоянии больше двойного фокусного расстояния, то его изображение будет...



12. Какое оптическое явление объясняет радужную окраску мыльных пузырей?

- 1) Дисперсия
- 2) Дифракция
- 3) Интерференция
- 4) Поляризация

13. Непрерывные (сплошные) спектры дают тела, находящиеся

А. только в твердом состоянии при очень больших температурах;

Б. в газообразном молекулярном состоянии, в котором молекулы не связаны или слабо связаны друг с другом;

В. в газообразном атомарном состоянии, в котором атомы практически не взаимодействуют друг с другом;

Г. в твердом или жидком состоянии, а также сильно сжатые газы

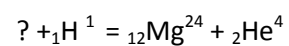
14. Какое из перечисленных ниже электромагнитных излучений имеет наибольшую частоту?

- А. Радиоволны.
- Б. Инфракрасное излучение.
- В. Видимое излучение.
- Г. Ультрафиолетовое излучение.
- Д. Рентгеновское излучение.

15. Какое из приведённых ниже выражений определяет понятие дисперсия?

- А. Наложение когерентных волн.
- Б. Разложение света в спектр при преломлении.
- В. Преобразование естественного света в плоскополяризованный.
- Г. Огибание волной препятствий.
- Д. Частичное отражение света на разделе двух сред.

16. Написать недостающие обозначения в следующей ядерной реакции:



17. Атом натрия ${}_{11}\text{Na}^{23}$ содержит

1)	11 протонов, 23 нейтрона и 34 электрона
2)	23 протона, 11 нейтронов и 11 электронов
3)	12 протонов, 11 нейтронов и 12 электронов
4)	11 протонов, 12 нейтронов и 11 электронов

18. Определите, какие из реакций называют термоядерными

- А. Реакции деления легких ядер
- Б. Реакции деления тяжелых ядер
- В. Реакции синтеза между легкими ядрами
- Г. Реакции синтеза между тяжелыми ядрами

Вариант №2

1. По катушке протекает ток, создающий магнитное поле энергией 5 Дж. Магнитный поток через катушку 10 Вб. Найти силу тока
2. Определите силу тока, проходящего по прямолинейному проводнику, перпендикулярному однородному магнитному полю, если на активную часть проводника длиной 10 см действует сила в 50 Н при магнитной индукции 20 Тл.
3. Установить соответствие:

- | | |
|-----------------------|-------|
| А. Магнитная индукция | 1. Гн |
| Б. Индуктивность | 2. Тл |
| В. Магнитный поток | 3. А |
| | 4. Вб |

А	Б	В
---	---	---

4. Один раз полосовой магнит падает сквозь неподвижное металлическое кольцо южным полюсом вниз, второй раз северным полюсом вниз. Ток в кольце

возникает в обоих случаях
не возникает ни в одном из случаев
возникает только в первом случае
возникает только во втором случае

5. Чему равно изменение магнитного потока в контуре за 0,04с, если при этом возникла ЭДС индукции 8В?

6. Индукционный ток возникает в любом замкнутом проводящем контуре,

если:

1) Контур находится в однородном магнитном поле;

2) Контур движется поступательно в однородном магнитном поле;

3) Изменяется магнитный поток, пронизывающий контур.

7. Как изменится период малых колебаний математического маятника, если его длину увеличить в 4 раза?

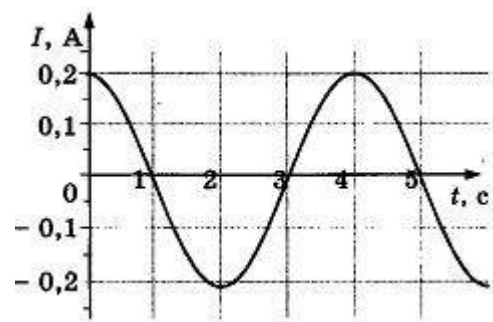
1)увеличится в 4 раза

3) уменьшится в 4 раза

2) увеличится в 2 раза

4) уменьшится в 2 раза

8. На рисунке показан график зависимости силы тока в металлическом проводнике от времени. Определите амплитуду колебаний тока



1) 0,4 А

2) 0,2 А

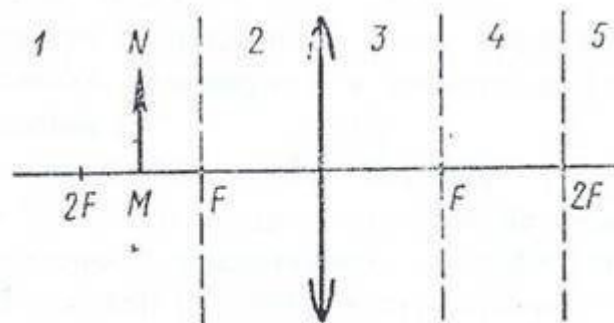
3) 0,25 А

4) 4 А

9. Динамик подключен к выходу звукового генератора. Частота колебаний 170 Гц. Определите длину звуковой волны в воздухе, зная, что скорость звуковой волны в воздухе 340 м/с.

10. Луч света падает на плоское зеркало. Угол отражения равен 12° . Угол между падающим лучом и зеркалом...

11. На рисунке показано положение линзы, ее главной оптической оси, главных фокусов и предмета MN, то его изображение будет...



12. Какое явление доказывает, что свет — это поперечная волна?

1) Дисперсия 2) Дифракция 3) Интерференция 4) Поляризация

13. Вещество в газообразном атомарном состоянии дает:

А. непрерывный спектр излучения В. полосатый спектр излучения

Б. линейчатый спектр излучения Г. сплошной спектр поглощения

Д. полосатый спектр поглощения

14. Спектральный анализ позволяет определить:

А. химический состав вещества; Г. массу тела;

Б. скорость движения тела; Д. температуру тела;

В. объем тела; Е. давление воздуха.

15. Генератор ВЧ работает на частоте 150 МГц. Длина волны электромагнитного излучения равна...

16. Какое из трех типов излучений (α -, β - или γ -излучение) обладает наибольшей проникающей способностью?

1) α -излучение
2) β -излучение
3) γ -излучение
4) все примерно в одинаковой степени

17. Опыты Э. Резерфорда по рассеянию α -частиц показали, что

А. почти вся масса атома сосредоточена в ядре.

Б. ядро имеет положительный заряд.

Какое(-ие) из утверждений правильно(-ы)?

1) только А
2) только Б
3) и А, и Б
4) ни А, ни Б

18. Атом магния ${}_{12}\text{Mg}^{24}$ содержит...

протонов-... ; нейтронов-....; электронов-...

Ответы :

№ задания	Ответы:		Кол-во баллов
	Вариант №1	Вариант №2	
1.	0,1Н	1А	36
2.	0,02 Гн(20мГн)	25А	36
3.	214	214	26
4.	3	1	16
5.	40В	0,32 Вб	26
6.	2	3	16
7.	2	2	26
8.	0,125 Гц	0,2А	16
9.	0,3Гц	2м	26
10.	66°	78°	26
11.	Уменьшенным, обратным и действительным	0,75м	36
12.	1	4	16
13.	Г	Б	16
14.	Д	А	16
15.	Б	2м	26
16.	${}^{13}\text{Al}$	3	16
17.	4	3	16

18.	В	12; 12; !2	16
-----	---	------------	----

Физика 10 Мякишев Контрольная 3

Контрольная работа № 3 по физике в 10 классе «Законы сохранения в механике» с ответами по УМК Мякишев, Буховцев, Сотский (5 вариантов). Цитаты из пособия «Физика. Самостоятельные и контрольные работы. 10 класс : базовый и углубленный уровни / Ерюткин, Ерюткина» использованы в учебных целях. Ответы адресованы родителям. Физика 10 Мякишев Контрольная 3 + ответы.

Содержание страницы

[Скрыть]

Физика 10 класс (УМК Мякишев и др.)

Контрольная работа «Законы сохранения в механике»

Вариант 1

- На горизонтальную поверхность положили деревянный шар, затем его заменили на стальной шар той же массы. Как при этом изменились сила тяжести и механическая энергия? Для каждой величины определите соответствующий характер её изменения:
1) увеличилась; 2) уменьшилась; 3) не изменилась.
Запишите выбранные цифры для каждой физической величины. Цифры в ответе могут повторяться.
- Самолёт при посадке обладает скоростью 108 км/ч. До полной остановки он проходит 200 м. Определите коэффициент трения колёс самолёта о покрытие взлётно-посадочной полосы.
- Тело свободно падает с высоты 20 м. На какой высоте кинетическая энергия этого тела будет равна 1/3 потенциальной?
- На гладкой горизонтальной поверхности находится брусок массой 400 г. Брусок соединён с пружиной, жёсткость которой 5000 Н/м. Второй конец пружины прикреплён к вертикальной стенке. Пластиновый шарик массой 100 г, летящий горизонтально со скоростью 1,5 м/с, попадает в брусок. Определите максимальное сжатие пружины.

Вариант 2

1. На горизонтальную поверхность положили деревянный шар, затем его заменили на стальной шар такого же объёма. Как при этом изменились сила тяжести и механическая энергия? Для каждой величины определите соответствующий характер её изменения:
1) увеличилась; 2) уменьшилась; 3) не изменилась.
Запишите цифры выбранных вариантов для каждой физической величины. Цифры в ответе могут повторяться.
2. Тело свободно падает с высоты 20 м. На какой высоте кинетическая энергия тела будет в три раза больше потенциальной?
3. Пуля массой 2 г движется горизонтально со скоростью 400 м/с, попадает в бруствер и углубляется в него на 50 см. Определите среднюю силу сопротивления.
4. Два пластилиновых шарика одинаковой массы подвешены на нитях длиной 20 см, соприкасаясь друг с другом. Один из шариков отводят на угол 90° и отпускают. На какую высоту поднимутся шарики после столкновения?

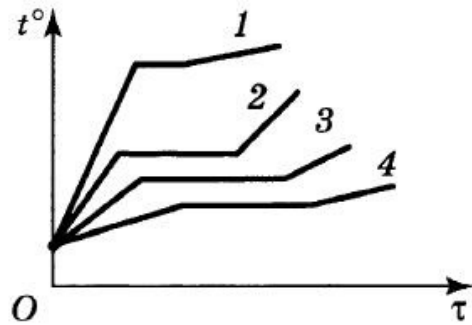
Физика 10 класс (УМК Мякишев и др.)

Контрольная «Молекулярная физика и тепловые явления»

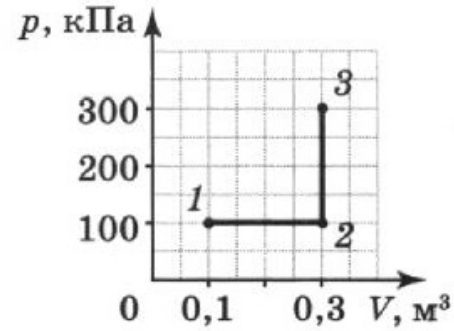
Вариант 1

1. Одноатомный идеальный газ перевели из одного состояния в другое, при этом его абсолютная температура увеличилась в 4 раза. Как при этом изменилась средняя кинетическая энергия теплового движения молекул газа? Ответ поясните.
1) увеличилась в 4 раза; 2) увеличилась в 2 раза; 3) уменьшилась в 4 раза; 4) не изменилась.

2. На рисунке представлены зависимости температуры от времени нагревания нескольких тел. В начальный момент все тела находятся в жидком состоянии. Определите, какое из веществ обладает большей температурой



кипения.

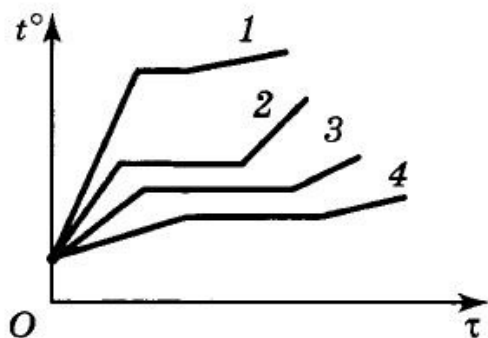


3. На графике представлена зависимость давления p газа от объёма V при переходе газа из состояния 1 в состояние 3. Определите работу, совершённую газом.
1) 10 кДж; 2) 20 кДж; 3) 30 кДж; 4) 40 кДж.
4. В баллоне ёмкостью 5 л под давлением 200 кПа и при температуре 27°C находится разреженный гелий. При его изобарном расширении была совершена работа 200 Дж. Определите, на сколько нагрели газ.

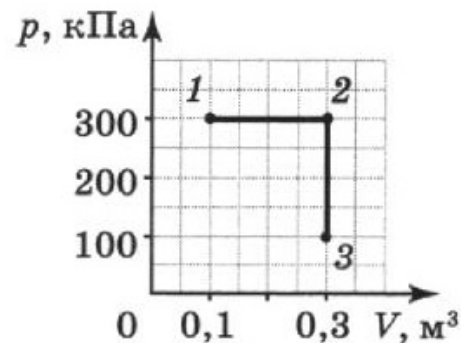
Вариант 2

1. В результате некоторого процесса абсолютная температура идеального одноатомного газа понизилась в 1,5 раза. Как при этом изменилась средняя кинетическая энергия молекул этого газа? Ответ поясните.
1) увеличилась в 1,5 раза; 2) уменьшилась в 1,5 раза; 3) уменьшилась в 2,25 раза; 4) не изменилась.

2. На рисунке представлены зависимости температуры t от времени τ нагревания нескольких тел. В начальный момент все тела находятся в жидком состоянии. Какое из веществ обладает наименьшей температурой



кипения?



3. На графике представлена зависимость давления p газа от объема V при переходе газа из состояния 1 в состояние 3. Определите работу, совершённую газом.
1) 30 кДж; 2) 40 кДж; 3) 50 кДж; 4) 60 кДж.
4. При изобарном расширении на 2 л идеальный газ получил количество теплоты, равное 16 Дж, при этом внутренняя энергия газа увеличилась на 8 Дж. Определите давление, при котором протекал этот процесс.

Физика 10 класс (УМК Мякишев и др.)

Контрольная «Электростатика. Законы постоянного тока»

Вариант 1

1. Два одинаковых шарика обладают зарядами -8 нКл и 4 нКл. Шарики были приведены в соприкосновение и затем разведены на прежние места. Как изменилась сила их взаимодействия?
1) увеличилась в 2 раза; 2) увеличилась в 8 раз; 3) уменьшилась в 4 раза; 4) уменьшилась в 8 раз.
2. Разность потенциалов между двумя протяжёнными горизонтальными пластинами 500 В. Расстояние между пластинами 20 см. Между пластинами в равновесии находится пылинка массой 10^{-3} г. Определите модуль заряда этой пылинки.

3. Плоский конденсатор ёмкостью 200 мкФ подключили к источнику тока с ЭДС 500 В, а затем отключили. На сколько изменится энергия конденсатора, если его обкладки развести на расстояние, большее первоначального в 2 раза?
4. К источнику тока подключили резистор сопротивлением 4 Ом, при этом сила тока в цепи составила 2 А. Когда к тому же источнику подключили резистор сопротивлением 8 Ом, сила тока в цепи стала равна 1,2 А. Определите ток короткого замыкания.

Вариант 2

1. Заряженный маленький шарик приводят на короткое время в соприкосновение с таким же незаряженным шариком. Определите первоначальный заряд первого шарика, если после соприкосновения сила взаимодействия между шариками на расстоянии 30 см равна 1 мН.
2. Два точечных разноимённых заряда расположены на расстоянии 6 см друг от друга в вакууме. Определите потенциал и напряжённость электрического поля в точке, находящейся на середине расстояния между зарядами, если модули обоих зарядов равны 2 нКл.
3. Плоский воздушный конденсатор состоит из двух пластин. Как изменится электроёмкость этого конденсатора, если расстояние между его пластинами уменьшить в 2 раза, а пространство между пластинами заполнить диэлектриком с диэлектрической проницаемостью 3?
1) увеличится в 4 раза; 2) уменьшится в 4 раза; 3) увеличится в 6 раз; 4) уменьшится в 6 раз.
4. Два резистора сопротивлениями 1 Ом и 4 Ом соединили параллельно и подключили к источнику тока с ЭДС 20 В. Определите внутреннее сопротивление источника, если сила тока в первом резисторе равна 4 А.

Физика 10 класс (УМК Мякишев и др.)

Контрольная работа «Динамика»

Вариант 1

1. Мяч брошен вертикально вниз с небольшой высоты с некоторой начальной скоростью. Как изменяются за время полёта ускорение мяча и сила притяжения его к Земле? Для каждой величины определите соответствующий характер изменения и запишите его номер.
1) увеличивается; 2) уменьшается; 3) не изменяется.
2. Трамвай движется со скоростью 28,8 км/ч. После того как будет выключен двигатель, какое расстояние проедет трамвай, пока его скорость уменьшится в 4 раза? Коэффициент сопротивления движению составляет 0,05.
3. На какой высоте над поверхностью Земли ускорение свободного падения равно 5 м/с^2 ?
4. Шарик массой 500 г движется по выпуклой поверхности радиусом 10 м. Определите силу реакции поверхности в тот момент, когда шарик проходит точку, радиус к которой составляет с вертикалью угол 60° . Скорость шарика в этот момент равна 2 м/с.

Вариант 2

1. Тело брошено с небольшой высоты под углом к горизонту вниз. Как изменяются за время полёта его скорость и сила притяжения к Земле? Для каждой величины определите соответствующий характер изменения и запишите его номер.
1) увеличивается; 2) уменьшается; 3) не изменяется.
2. Автомобиль движется по прямой горизонтальной дороге и после выключения двигателя уменьшает свою скорость от 8 до 5 м/с на пути 78 м. Определите коэффициент трения для этого случая.
3. Определите массу планеты, если её радиус в 2 раза больше земного, а сила тяжести совпадает с земной. (Ответ выразите в массах Земли.)
4. Маленький шарик, масса которого 200 г, движется равномерно со скоростью 5 м/с по вогнутой поверхности радиусом 2 м. Определите силу реакции, действующую на шарик в тот момент, когда шарик проходит точку, радиус к которой составляет с вертикалью угол